

成績組距	
100分	
90~99	
80~89	
70~79	
60~69	
59分以下	
家長簽名	

基隆市東光國民小學 113 學年度第 1 學期三年級數學領域第一次定期評量試題  
三年忠班 座號：\_\_\_\_\_ 姓名：\_\_\_\_\_



※ 歡迎來到魔法王國，探險活動困難重重，萬能的關主一一登場，各種難題接踵而至，帶著你強大的裝備技能深入魔法王國，突破層層關卡，一起去冒險吧！

第一關：判斷能力大考驗：每題 2 分，共 20 分

- ( ) 1. 4713 - 1221 的答數是多多少？  
 ① 3392    ② 3492    ③ 3592    ④ 3692
- ( ) 2. 找出最接近「808×4」答數的數？  
 ① 3000    ② 3100    ③ 3200    ④ 3300
- ( ) 3. 1204 的千位是哪一個數字？  
 ① 1    ② 2    ③ 0    ④ 4
- ( ) 4. 熱狗攤一星期賺 6999 元，烤番薯攤一星期賺 7000 元，哪一個攤位一星期賺的錢比較多？  
 ① 熱狗攤    ② 烤番薯攤  
 ③ 一樣多    ④ 無法判斷
- ( ) 5. 在直式計算的  $\square$  裡填入正確的數字，三個  $\square$  裡的數字相加後的答數是多多少？  

$$\begin{array}{r} 5093 \\ - 1546 \\ \hline \square 5 \square \square \end{array}$$
  
 ① 18    ② 19    ③ 20    ④ 14
- ( ) 6. 餅乾工廠已經生產了 3500 包餅乾，如果再多生產 100 包的話，共有幾包餅乾？  
 ① 4500 包    ② 3600 包    ③ 3510 包  
 ④ 3501 包
- ( ) 7. 需丞是東光國小三年級的學生，下列哪一個高度可能是他的身高？  
 ① 136 毫米    ② 136 公分  
 ③ 136 公尺    ④ 1360 公分

- ( ) 8. 4713 → 4718 → ( ) → 4728，( ) 裡應該填入什麼數？  
 ① 4719    ② 4721    ③ 4723    ④ 4725
- ( ) 9. 「二千零三十七」可記作？  
 ① 2370    ② 2037    ③ 2073    ④ 2307
- ( ) 10. 柏論今天玩彈紙青蛙的遊戲，他的成績是 10 公分 5 毫米，也就是幾毫米？  
 ① 15 毫米    ② 51 毫米    ③ 105 毫米  
 ④ 510 毫米

第二關：計算魔法屋：每題 3 分，共 18 分

(1) 16863 - 4497 = ( )	(2) 40 × 2 = ( )
(3) 5078 + 3254 = ( )	(4) $\begin{array}{r} 854 \\ \times 7 \\ \hline \end{array}$
(5) 8000 - 1234 = ( )	(6) 606 × 5 = ( )

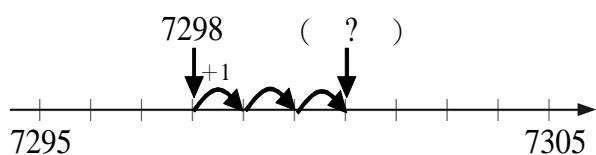
第三關：大小比一比：每格 2 分，共 12 分

1. 把下面的數由大到小排列：  
 (1) 4025, 2045, 5042  
 ( ) > ( ) > ( )  
 (2) 3356, 3536, 5336  
 ( ) > ( ) > ( )

請翻面繼續作答

第四關：圖形對對碰：每格 2 分，共 34 分

1. 在數線上做做看，並填入答案： $7298 + 3$  是 ( )。



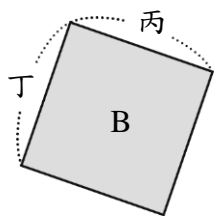
2.  $3$  公尺  $8$  公分 = ( ) 公分  
= ( ) 毫米。

3. 數數看，有幾元？在定位板上記記看：



千位	百位	十位	個位

4. 看圖回答問題：



量量看，B 圖形的丙邊是

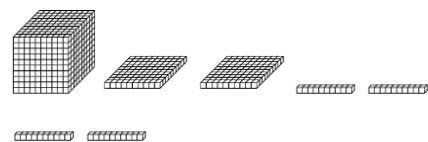
( ) 公分，

丁邊是 ( ) 公分，

有 ( ) 個直角，

是 ( ) 形。

5. 數數看，在定位板上填一填：



千位	百位	十位	個位

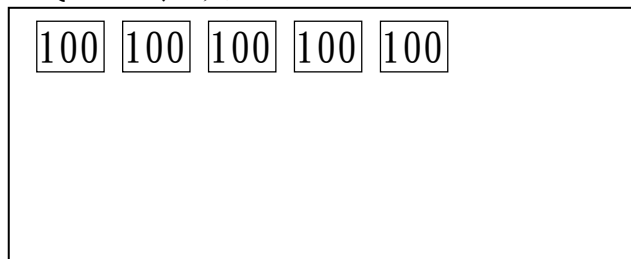
6. 用 2、8、4 組成一個三位數，數字不能重複，而且這個三位數要比 500 大。比 500 大的三位數有：( )、( )

第五關、畫圖高手展實力：每格 3 分，共 6 分

1. 用尺畫出一條 26 毫米直線。

2. 用 1000、100、10 和 1 畫出足夠的錢。

阿志想买一副 1050 元的藍芽耳機，可是他只有 500 元，還要幾元才夠？



第六關：綜合能力大挑戰：每題 4 分、共 16 分

1. 1 張紙條長 25 公分，8 張接在一起，共長幾公分？

2. 清明節當天，阿姨上午賣出 2673 個春捲，下午賣出 1523 個，今天共賣出幾個春捲？

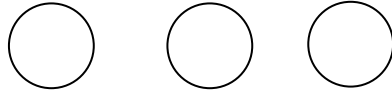
3. 把一條彩帶剪掉 24 公分 3 毫米後，還剩下 12 毫米，這條彩帶原來長幾公分幾毫米？

4. 小宇每天跑步 375 公尺，一星期共跑了幾公尺？

六、課金時事加分題:每題2分，共4分。



恭喜破關，記得檢查3次!



2017年臺北舉辦夏季世界大學運動會，吸引世界各國眾多選手來參賽。這次世大運，參賽運動員共有7639人，主辦單位精心策劃精彩的開幕典禮，各國選手個個精神抖擻進場，接受觀眾的歡呼鼓舞，場面隆重熱鬧令人難忘。

小朋友，關心2017臺北世大運，請你來回答下面的問題。

- (1) 各國選手一一進場，已經有5327人進場，再100人進場，共有幾人進場？ ( ) 人
- (2) 參賽運動員共有7639人，下面哪一個是7639的讀法？圈圈看。
- ( 七千六百三十九， 七千六百三十九， 7千6百3十9 )