

基隆市東光國小113學年度第1學期一年級數學領域第二次定期評量試題
 一年忠班 座號：_____ 姓名：_____ 家長簽名：_____ 分數：_____

一、勾選題：每題3分，共30分

1. 哪一個梯子比較高？在下面□裡

() 裡打✓。

①



()

②

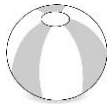


()

2. 把有平平的面，也有彎彎的面

的東西打✓。

①



()

②



()

③



()

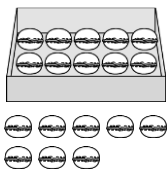
3. 下面的馬卡龍分別是阿弘和心

心的阿弘的馬卡龍比心的心多，下面

哪一份馬卡龍是阿弘的？

ㄅ

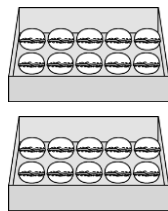
18 個



()


ㄆ

20 個



()

4. 把正確的時打✓。

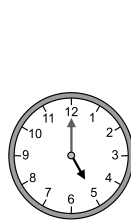


① 11 點半

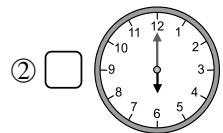
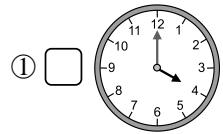
② 11 點

③ 12 點半

5. 把正確的時打✓。



長針走 1 圈



6. 花園裡有 9 朵花，媽媽摘走 3 朵

花，還剩下幾朵花？找出正確的

算式並打✓。

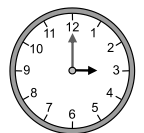
() (1) $3+6=9$

() (2) $9-3=6$

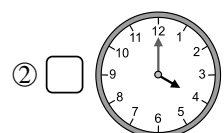
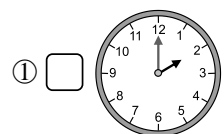
() (3) $6+3=9$

() (4) $9-6=3$

7. 把正確的時打✓。

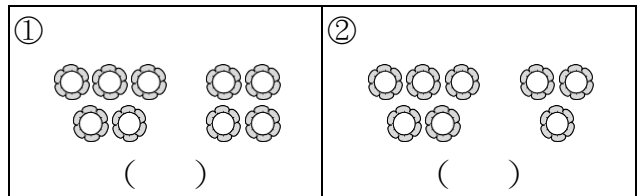


長針走 1 圈



8. 下面哪一個圖合起來的數量，

可以用 $5+3$ 表示？請打✓。



(背面還有題目)

三、做做看看：每題6分，共18分

1. 畫○做做看看。

$2+7=(\quad)$

畫○：

2. 先畫○再畫掉，完成減法算式。

式。

$4-4=(\quad)$

畫○：

3. 先畫○再畫掉，完成減法算式。

式。

$8-8=(\quad)$

畫○：

4. 報讀時刻：




() 點

❖恭喜你寫完囉！再檢查三次吧！

四、看看圖填填看看 (每題4分，共16分)

1. 寫出正確的時刻。




() 點半

2. 寫出正確的時刻。



() 點

3. 完成加法算式。



$3+2=(\quad)$

成績組距	
100分	
90~99	
80~89	
70~79	
60~69	
59分以下	