

成績統計		平均:	分
100分	人		
99~90分	人		
89~80分	人		
79~70分	人		
69~60分	人		
60分以下	人		

家長簽名

基隆市東光國小 111 學年度第 2 學期五年級社會領域

第三次定期評量試題

五年忠班 號 姓名：

一、是非題：每題 2 分，共 20 分


- () 雪山隧道開通後，讓家鄉在金門的阿光往返臺灣本島時更便利了。
- () 「娜魯灣」(Na-Lu-Wan) 是原住民族表示「歡迎」的問候語，也可以是「故鄉」、「家人」等意義。
- () 離島地區會有交通、土地等各項資源不足的現象，因此人口數過多。
- () 許多傳統的農業鄉鎮，例如屏東縣滿州鄉、嘉義縣六腳鄉等，年輕人口不斷的外移，是政府急需解決的課題。
- () 小鈺向同學介紹自己的家鄉時，說到她的家鄉是一個「港都及工業重鎮」，由此可知小鈺的家鄉可能是高雄。
- () 臺灣的鐵路系統主要呈現環狀分布，可以藉由它進行環島旅行。
- () 中部區域交通、商業、文化的核心都市是臺中市，臺中車站也是中部區域南來北往的交通中心。
- () 爸爸的公司舉辦員工旅遊，地點是金門，他可以在那裡買些特產回來，例如貢糖、高粱酒或炮彈鋼刀。
- () 暑假時，小兵一家人到花蓮的海洋公園遊玩，還去臺東知本泡溫泉，這兩個地方都位於臺灣東部區域。
- () 住在臺中市的小安一家人想去花蓮旅遊，他們應該選擇遊艇，從臺中港出發到花蓮港，這是最節省時間的方式。

二、選擇題：每題 2 分，共 26 分

- () 阿貴在「下港」有名聲，所以他可能是現今哪個地方的名人？①苗栗 ②臺南 ③新竹 ④臺北。
- () 下列哪一項是新板特區快速崛起的原因？①成立許多新商圈 ②大量

外國人移入 ③開闢新的商港 ④便利的交通建設。

- () 近年來，新移民女性大多是因為什麼因素移入臺灣？①婚姻 ②旅遊 ③工作 ④留學。
- () 下面是小毅暑假旅遊買的紀念品：



圖(一)是小毅在當地著名的洋樓所蓋的紀念戳章，圖(二)則是擺飾，這是當地的守護神。關於小毅旅遊的地方，何者正確？①在臺灣東部區域也可以看到這些特殊的景觀 ②紀念戳章中特殊的建築景觀可以說明小毅去了有「華僑之鄉」稱呼的地方 ③小毅除了這兩項紀念品外應該也會拍下許多當地傳統石頭屋建築群的照片 ④旅遊的地點是熱帶氣候區，到處都充滿了熱帶風情。

- () 民國 50 年代政府推行什麼來鼓勵節育？①複製人計畫 ②家庭計畫 ③長青學苑 ④優生保健政策。
- () 臺灣在哪一個階段時，大量人民從中國大陸移入臺灣，造成人口快速成長？①戰後初期 ②日治時期 ③民國 60 年代 ④民國 90 年代。
- () 臺灣東部是個狹長形的區域，位於什麼地形之間？①玉山山脈和臺灣海峽 ②雪山山脈和太平洋 ③中央山脈和太平洋 ④海岸山脈和臺灣海峽。
- () 臺灣的哪一個區域受到東北季風影響，終年有雨，再加上丘陵地形，使得茶產業曾經盛極一時？①北部 ②中部 ③南部 ④東部區域。

~請翻面繼續答題~

9. () 臺灣老年人口已經達到 14%，這是什麼現象？①老人國②老年社會③高齡社會④老齡社會。
10. () 下列哪一項不是影響臺灣人口變化的主要因素？①出生②死亡③宗教④遷移。
11. () 小丸子的爸爸在中國大陸工作，休假時返臺與家人團聚，自從兩岸直航後，中國與臺灣的往返更加方便。請問兩岸「直航」指的是什麼交通方式？①空運②捷運③河運④以上皆是。
12. () 「少子化、高齡社會」的現象會帶來什麼影響？①生產力提高②青、壯年人口負擔變重③離婚率提高④經濟發展快速。
13. () 下列哪個是民國 60 年代出生的人就讀國小時的情況？①班級學生之間沒有任何競爭②同學大多是獨生子女③班上學生約有 60 人④都是由代課老師上課。

三、閱讀題組：每題 2 分，共 16 分

(一) 生育率統計

下表是內政部統計 2002~2011 年各個年齡區段的婦女生育率，表格內的數字代表的是百分率（%），請回答以下問題。

年齡別生育率 單位：%							
	15~19	20~24	25~29	30~34	35~39	40~44	45~49
	歲	歲	歲	歲	歲	歲	歲
2002 年	1.3	5.7	10.2	7.3	2.0	0.3	0.0
2003 年	1.1	5.2	9.2	6.9	2.0	0.3	0.0
2004 年	1.0	4.9	8.6	6.8	2.0	0.3	0.0
2005 年	0.8	4.4	7.9	6.8	2.1	0.3	0.0
2006 年	0.7	4.1	7.8	7.1	2.3	0.3	0.0
2007 年	0.6	3.7	7.6	7.4	2.4	0.3	0.0
2008 年	0.5	3.2	7.2	7.3	2.5	0.3	0.1
2009 年	0.4	2.7	6.9	7.5	2.7	0.4	0.1
2010 年	0.4	2.3	5.5	6.5	2.8	0.4	0.1
2011 年	0.4	2.3	6.6	8.1	3.4	0.5	0.2

- () (1) 以 2011 年為例，哪個年齡別的生育率最高？① 25~29 歲 ② 30~34 歲 ③ 35~39 歲 ④ 無法得知。
- () (2) 請看這 10 年間，20~24 歲婦女的生育率，如果繪製成折線圖，這條線會呈現什麼趨勢？① 逐漸上升 ② 逐漸下降 ③ 持平 ④ 無法得知。
- () (3) 比較 2003 年與 2011 年的數據，發現到什麼現象？① 新移民所孕育的下一代人數愈來愈多 ② 國人平均壽命增加 ③ 婦女生育年齡逐年增加 ④ 青壯年人口負擔減輕。
- () (4) 從上表可知 40 歲以上的婦女生育率逐漸增加，這可能會造成什麼問題？① 父母與孩子年齡差距太大 ② 婦女懷孕期間風險增加 ③ 體力上難以負擔照顧子女的壓力 ④ 以上皆是。

(二) 國寶級火車頭旅館

彰化扇形車庫是全臺獨一無二的火車頭旅館，是日治時期留下來的火車頭維修站，位於臺灣西部幹線的山線和海線交會處，至今已有近百年的歷史。



從空中鳥瞰，車庫的建築體和軌道形狀，像一把展開的大扇子，每一個庫房僅提供一臺火車頭停放、保養維修，可同時停放 12 輛火車頭，因此有「火車頭旅館」之稱。

早期的蒸汽機車頭只能單向前進，不能倒退，因此車庫前設置一座 360 度旋轉盤，能在最短的時間內，方便火車頭調轉方向，不

~加油！下一頁還有題目~

僅對火車班次調度相當有幫助，也提高火車機件維修的便利性。

- () (1) 早期臺灣的火車屬於哪一種車型？
①蒸氣火車 ②柴油火車 ③電聯車 ④高速火車。
- () (2) 對於彰化扇形車庫的「旋轉盤」，哪個敘述錯誤？①能旋轉 360 度 ②每個車間配置一個，共計 12 個 ③在短時間幫助火車頭進入車庫 ④設置在車庫前方，只有一個。
- () (3) 依據文章敘述，蒸汽火車頭具備哪項特色？①只能單向前進 ②須小心後退 ③速度比高鐵快 ④比較耗費電力。
- () (4) 對於扇形車站的保存，選出比較適合的方式 ①不符時代需求應拆除 ②列為文化資產 ③出售賺取營收 ④擴建容納更多火車頭。

四、綜合題組：每答 1 分，共 27 分

(一) 萱萱從新北市搭火車到高雄旅行，火車經過下面幾個地方，由北到南填入代號：

A 新竹 B 雲林 C 臺南 D 嘉義
E 桃園 F 苗栗 G 彰化

答：新北→()→()→()
→臺中→()→()→
()→()→高雄。

(二) 將聚落特色代號填入對應的聚落類型：

A 鄉村 B 市鎮 C 都市

- () 物產運銷與買賣的集散地。
- () 適合栽種農作物且地勢平坦。
- () 可停泊船隻的沿海灣澳地區。
- () 利用當地自然條件從事生產。
- () 位居交通要道。
- () 建有公園、博物館等。
- () 人口和建築物很密集。
- () 經常舉辦大型商展。
- () 隨處可見街屋與騎樓。

(三) 嘉南平原會成為臺灣的大穀倉正確的原因請打√：

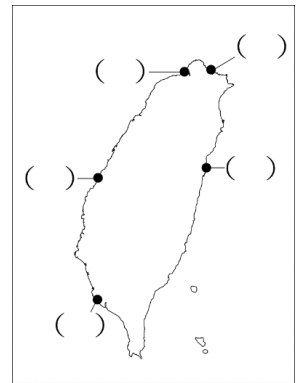
1. () 地勢平坦。 2. () 氣候溼熱。

3. () 土質肥沃。
4. () 水利設施完善。
5. () 人口數居全臺之冠。
- (四) 關於臺灣區域間交通建設的敘述，正確的打√：
- () 臺灣鐵路目前已經可以環島一圈。
 - () 臺灣有兩條貫穿南北的高速公路。
 - () 海運是臺灣主要國際貨運運輸方式
 - () 從臺灣要到金門、馬祖，我們只能選擇國際航線。
 - () 臺灣高速鐵路讓國人不用 2 小時就可以環島一圈。
 - () 臺北、新北、桃園、臺中及高雄都設有大眾捷運系統。

五、簡答或填圖題：每格 1 分，共 11 分

(一) 將臺灣主要港口的代號填入 () 中：

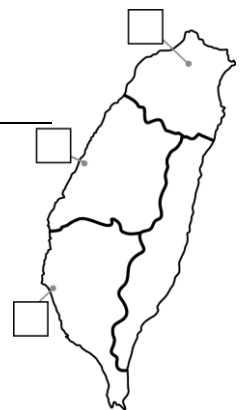
- A. 臺中港
B. 基隆港
C. 高雄港
D. 花蓮港
E. 臺北港



(二) 諺語「一府二鹿三艋舺」，依序是指現在的什麼地方？並在地圖上標出 123 的順序。

(1) _____ (2) _____

(3) _____



【加分題】3 分

課內外使用平板學習的心得(含多元評量)：

寫完請認真仔細的檢查！