

成績統計		☆☆☆	
100分	人	平均:	分
99~90分	人	家長簽名	
89~80分	人		
79~70分	人		
69~60分	人		
60分以下	人		

基隆市東光國小 111 學年度第 1 學期五年級社會領域

第三次定期評量試題

五年忠班 號 姓名：

一、是非題：每題 2 分，共 24 分

- () 早期臺灣的原住民族因為生活環境艱辛，在食物、兒童教養、婚喪和勞務等方面，發展出許多互助及分享的方式。
- () 漢人家族大多是母系社會，不僅給予成員安全感和認同感，也非常重視紀律與秩序。
- () 清朝時臺灣主要向中國輸出藥材、鹿皮和紡織品，輸入的物資以稻米和蔗糖為主。
- () 清朝政府將臺灣納入版圖後，頒布許多來臺的規定，有很多漢人寧願冒著生命危險，選擇偷渡到臺灣。
- () 宗親會是由不同姓氏的人所成立，會舉辦許多活動來加深成員的家族觀念、凝聚家族向心力。
- () 「家訓」指的是祖先對於後代子孫的訓勉或指引，包括做人處事的方法及道德品行的修養。
- () 原住民族部落的成員，無論是在祭典、狩獵及禁忌等重要事務，都必須共同承擔與遵守。
- () 現今的淡水是清朝時期臺灣位於北部的三大港口城市之一。
- () 吳沙移居臺灣之後，以鹽、布料等民生用品和噶瑪蘭人交換鹿皮，也學會使用他們的語言。
- () 清朝時期的教育，著重學生的品德培養，並傳授四書五經，準備參加科舉考試。
- () 清朝政府鼓勵高山族人讀漢文、使用漢姓，使其原有的語言、社會文化漸漸消失。
- () 藍染是臺灣傳統的染布方式之一，從清朝時期就已經有這項工藝技術了。

二、選擇題：每題 2 分，共 24 分

- () 清朝地方政府設置哪一個官方教育機構，目的是在培育為官人才？
①儒學 ②私塾 ③書院 ④社學。
- () 下列哪一個族群不斷與漢人通婚、買賣，因此融入漢人的生活方式？
①達悟族 ②平埔族 ③鄒族 ④阿美族。
- () 清初來臺的墾戶要如何取得土地所有權？
①努力開墾 ②向政府申請 ③向政府納稅 ④先獲得先贏。
- () 清朝時期興建了許多水圳，帶來的影響不包括哪一個？
①稻米產量增加 ②開墾範圍擴大 ③吸引更多前來耕作 ④導致市街衰落。
- () 布農族的什麼祭典除了祭祀祖靈，也象徵傳承打獵的精神？
①打耳祭 ②豐年祭 ③飛魚祭 ④戰祭。
- () 大Q家是漢人家族，若依照輩分，哪一位家族成員最有可能擔任族長？
①父親 ②曾祖父 ③哥哥 ④大伯父。
- () 有關客家族群的敘述，何者錯誤？
①居住在丘陵或山地 ②菜餚特色是重油重鹹 ③清蒸是烹煮時常見的方式 ④惜福愛物的生活觀念。
- () 先民們為了祈求開墾的時候能健康平安，所以會祭拜什麼神？
①開漳聖王 ②保生大帝 ③媽祖 ④土地公。
- () 清朝時期，漢人開墾臺灣土地的區域是往哪個方向延伸？
①由東向西 ②由南向北 ③由西向東 ④由北向南。
- () 關於原住民族的傳統飲食文化，下列哪一項敘述錯誤？
①食物的來源大多與當地的自然環境相結合 ②靠近山林的人以摘取野菜及獵捕的動物為食材 ③在農曆除夕吃團圓飯 ④小米是傳統主食。

11. () 下列哪一項不是當初成立「郊」的主要目的？ ①讓各商行商議工資 ②建立商業的規範 ③與外國商行競爭 ④共同拓展貿易。
12. () 下列關於「民變」的敘述，何者錯誤？ ①原因是官吏剝削與壓迫，導致群眾反抗政府 ②林爽文事件的規模最大 ③臺灣第一座土城牆是因民變而建築 ④隘門是民兵防禦的據點。

三、閱讀題組：每題2分，共20分

(一)興建水圳的「林先生」傳奇

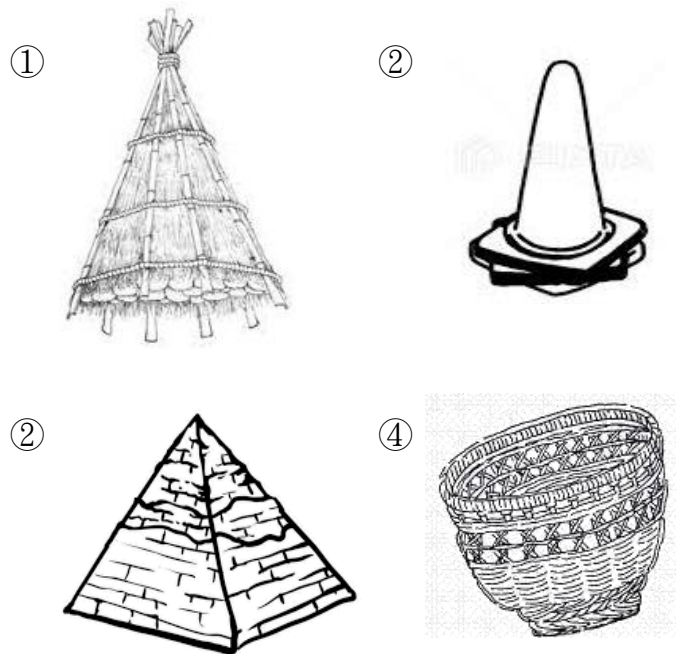
在臺灣開墾初期，彰化有遼闊的荒野，如果能開發水圳引水，不僅可灌溉田園又能解決民生用水的問題。

於是，興建者籌募資金，聘僱許多工人來工作，然而，在即將完工時卻發現，原本規劃的引水道無法將溪水引入水圳，眼看所有的努力將付諸流水，於是張貼布告，希望有人可以協助。

有一天，一位白髮白鬚，舉止風雅的老先生出現在工地現場，向大家指出水流路線的走向，並建議使用「石筍^ㄕ」的設施。這種石筍是用竹子編成好像大筍子的三角圓錐型狀，放置石塊在中間，這樣的裝置排成一整排，就可以擋住水流導向導向水圳之中。

大家依照這位自稱「林先生」的方法，果然讓溪水順暢的流入整個渠道，當地人興建了林先生廟，來紀念這位功成不居的傳奇人物。

- () (1) 依文章內容可知，這條水圳應該是 ①田寮河 ②瑠公圳 ③曹公圳 ④八堡圳。
- () (2) 這條水圳的命名是跟什麼有關？ ①彰化當地的八個村落 ②興建者的家鄉名字 ③林先生愛吃八寶飯 ④從臺南到彰化要經過八個城堡。
- () (3) 林先生建議使用的水利設施「石筍^ㄕ」，應該是下面哪一個？



- () (4) 接續上題，製造這種設施必須使用的材料是 ①木頭 ②竹子 ③檜木 ④樹皮。
- () (5) 關於本文敘述，下面敘述何者正確？ ①石筍的形狀是正方形 ②林先生籌措很多經費來建設 ③林先生可能是為老人家 ④興建水圳者是郭錫瑠父子。

(二)傳統的婚禮習俗

結婚是人生大事，在結婚儀式中，有許多祝福或避除災厄^ㄕ的象徵意義。

例如，新娘離開家門進入禮車或下車進入夫家時，媒人會用一個畫有太極八卦的米篩^ㄕ遮住新娘頭蓋上方，這是因為「太極」符號在傳統化中有「生生不息」的含意，「篩^ㄕ」的閩南語發音和「胎」同音，意思是祈求新人能多子多孫，讓生命綿延繁盛。

另外，新娘在離開娘家時，會從禮車內將一把扇子或舊衣服拋出車外，代表新娘對娘家離情依依的心情。到夫家時，男方家族的人會捧著水果請新娘下車，代表「吉利平安」的祝福。

在結婚儀式中，新郎和新娘會一起吃甜湯圓，期待能甜甜蜜蜜的開始他們的婚姻與家庭生活。

~加油！下一頁還有題目~

- () (1) 傳統婚禮上使用繪製「太極八卦」符號的米篩，可能代表 ①太極拳 ②生生不息 ③人生的變化 ④娶太太，好極了！
- () (2) 從文章中可知，哪件東西不太可能出現在婚禮上？ ①蘋果 ②榴槤 ③橘子 ④扇子。
- () (3) 想一想，如果新人想要以傳統方式舉行婚禮，可能不需要考慮的是 ①結婚轎子 ②結婚喜宴 ③媒人或介紹人 ④潛水儀式。
- () (4) 臺灣的傳統家庭，可能具備什麼特色呢？ ①各管各的，沒有連結 ②親友共同撫養小孩 ③重視團圓和團結的家族精神 ④結婚後互不往來。
- () (5) 關於「人生大事」的描述，判斷下列何者不是？ ①出生 ②結婚 ③未來規劃 ④共同看電視。

四、綜合題組：每答1分，共16分

(一) 族群文化配對，並填入正確代號：

甲. 漢人	乙. 邵族	丙. 布農族
丁. 雅美族	戊. 排灣族	己. 泰雅族

1. () 將兒童視為部落小孩，所有人共同教養。
2. () 大家會一起分享獵物，族人結婚或建造房屋等，也是彼此相互幫忙。
3. () 除夕是重要節日，全家會聚在一起吃團圓飯。
4. () 祖靈祭時，以「公媽籃」表現對祖先的尊重。
5. () 有勞動力的男子組成「漁團」，共同造船，平分漁獲。

(二) 宗教信仰配對，並填入正確代號：

A 保生大帝	B 三山國王
C 開漳聖王	D 媽祖
E 王爺	

1. () 本名陳元光，因為開發漳州有功而被視為保護神。
2. () 保佑人們渡海順利。
3. () 醫術高超，是泉州人主要保護神。
4. () 臺南市的南鯤鯓代天府是全臺規模最大的五府千歲信仰中心之一。
5. () 客家人的信仰中心之一。

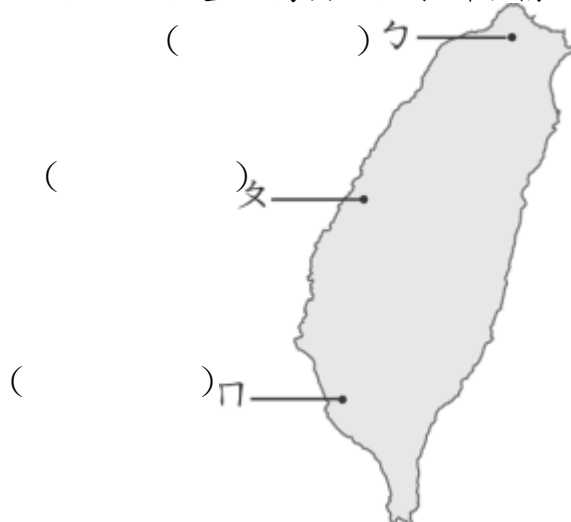
(三) 關於漢人傳統家族社會敘述，對的打√，錯的畫×：

1. () 以父系社會型態為主。
2. () 家族一般為三代同堂或多代同堂為主。
3. () 有稱謂、家訓、祭祀等各種家族規範。
4. () 翻閱族譜可以找到所有家族長輩的姓氏與名字，不論是男性或女性成員。
5. () 家族強調「男女平等」的觀念。
6. () 教導族人待人處事的基本道理。

五、簡答或填圖題：每格1分，共16分

(一) 清朝三大水圳

1. 依地理位置，寫出三大水圳名稱：



~請翻面繼續答題~

2. 完成水圳相關資訊：

區域	興建者	引用河川	灌溉地區
北	() 父子	() 溪	() 盆地
中	()	() 溪	() 平原
南	()	() 溪	() 平原

(3) 清朝時期，臺灣最大的水利工程是

()。

(二) 諺語「一府二鹿三艋舺」，分別是指現在的什麼地方？

(1) _____ (2) _____


(3) _____

【加分題-生命禮俗議題】 5分

社會第五六單元提到漢人社會和原住民社會的不同，兩者都有成年禮，你覺得幾歲的時候應該舉辦成年禮？為什麼？

1. 成年禮舉行年紀：_____

2. 此時舉行的原因：_____



寫完請用心檢查喔！