

四年忠班 座號_____ 姓名_____ 家長簽名_____

一、是非題（每題 2 分，共 12 分）

1. () 小芳翻看家庭相簿時，看到一張她小時候的照片，照片中的她脖子上掛了一串中間有圓孔的餅乾，媽媽說這是她進行「收涎」時的紀念照。這張照片應該是拍攝於小芳滿一個月時。
2. () 隨著養育子女的成本增加，也會影響民眾生育下一代的意願。
3. () 有些地方因為交通便利、工商業發達，促使人口逐漸增加。
4. () 小羽家住在南投縣草屯鎮，當地因為地勢平坦，開發早，所以人口比較多。
5. () 出生人數降低，意味著未來的勞動人口將減少。
6. () 小安利用假日去探望奶奶，聊聊近況，這樣可以促進和奶奶之間的親情。

二、選擇題（每題 2 分，共 20 分）

1. () 下列哪一項不是原住民族的節慶或祭典？ ①矮靈祭 ②海神祭 ③潑水節 ④祖靈祭。
2. () 小朱進行研究調查時，發現一個地方的青壯年人口越多，代表當地的生產力和競爭力越高。請問將家鄉的人口組成分為幼年、青壯年、老年，是以哪一種依據進行分類的？ ①年齡 ②教育程度 ③經濟能力 ④性別。
3. () 關於「抓周」的生命禮俗，哪一項是正確的？ ①在嬰兒出生的時候舉行 ②漢人和原住民族都有 ③是長輩對小孩長大後的期望 ④會釀酒與製作糕點。
4. () 「樂齡學堂」可以提供老年人學習多樣課程，因而產生什麼好處？ ①讓老年人可以活到老、學到老 ②提升老年人口比例 ③鼓勵老年人在家協助照顧孫子女 ④減免老人搭乘大眾運輸的費用。
5. () 漢人的寒食節與哪一個節日的日期很接近？ ①元宵節 ②端午節 ③清明節 ④中秋節。
6. () 泰國有「水燈節」，人們施放水燈的主

要目的是什麼？ ①慶祝豐收 ②感謝祖靈、消除災難 ③消除災難，求長壽 ④送走壞運、迎接好運。

7. () 下列哪一項婚禮儀式屬於漢人的生命禮俗？ ①報戰功 ②分食豬肉 ③盪秋千 ④敬茶。
8. () 社會老師提到不同的族群有不同的生命禮俗，小國整理了漢人與原住民族的比較資料，下列有關漢人和原住民族的傳統生命禮俗，哪一項敘述是錯誤的？ ①漢人新生兒在滿六個月時舉行抓周儀式 ②有些漢人會在滿 16 歲時鑽七娘媽亭 ③阿美族的成年禮有野外夜宿等訓練 ④排灣族在嬰兒出生後由父母或親族會議命名。
9. () 小知向新認識的朋友描述家鄉臺東縣池上鄉的種種，請問下列哪一項不會出現在小知的說明中？ ①我的家鄉曾經因為產金礦而吸引人口聚集 ②近年來家鄉努力發展觀光 ③近年來家鄉人口逐漸減少 ④交通的便利性是影響家鄉人口變化的重要因素。
10. () 臺北市大稻埕位於河邊，早期因為方便運輸，商業發達，聚集許多人口。這是哪一項因素會吸引人口居住的範例？ ①地勢平坦 ②文化資源多 ③交通便利 ④氣候溫和。

三、勾選題（每格 2 分，共 30 分）

1. 從下列哪些情形可以看出一個地方具有生產力和競爭力？請打√。
() (1) 老年人口比例增加。
() (2) 幼年人口減少。
() (3) 青壯年人口增加。
2. 隨著老年人口比例逐年上升，在高齡社會需要重視的課題有哪些？請打√。
() (1) 獨居老人養老問題。
() (2) 老年人的疾病照護。
() (3) 提供老年人終身學習的管道。
() (4) 增加老年人的多元休閒娛樂。
3. 地方上增設什麼機構，可以讓年長者「活到老



、學到老」？請打✓。

- () (1) 成立樂齡學堂。
- () (2) 設置托嬰中心。
- () (3) 設置安親課輔班。
- () (4) 增設長青學苑。

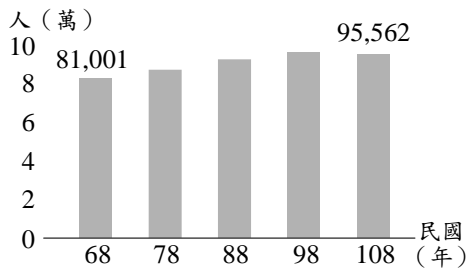
4. 以安今年計畫要和媽媽一起參加媽媽家鄉的潑水節傳統活動，請問以安媽媽可能來自什麼國家？請打✓

- () (1) 越南。
- () (2) 緬甸。
- () (3) 泰國。
- () (4) 臺灣。

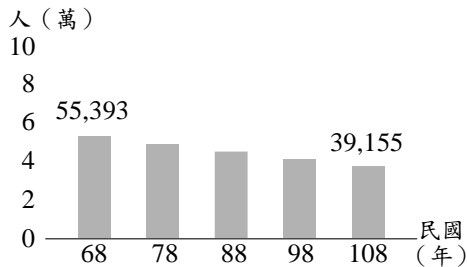
四、圖表題（每格 2 分，共 18 分）

1. 請看圖圈出正確的答案。

宜蘭市人口數量圖

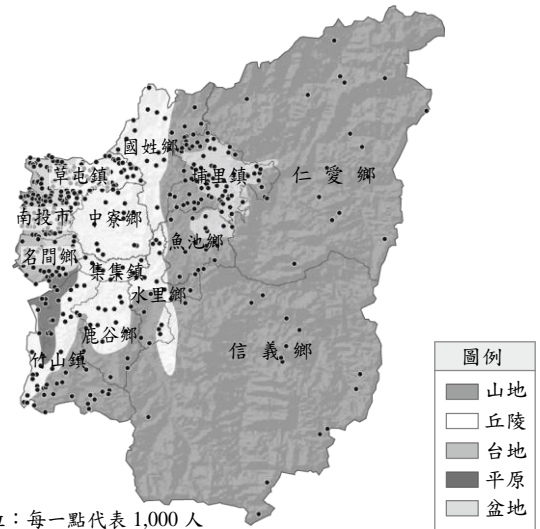


蘇澳鎮人口數量圖



- (1) (縱軸／橫軸) 代表民國 (年)。
- (2) (縱軸／橫軸) 代表人數 (萬)。
- (3) 宜蘭市人口數量逐漸 (增加／減少)。
- (4) 蘇澳鎮人口數量逐漸 (增加／減少)。
- (5) 圖表呈現的是當地每 (1 / 5 / 10) 年的人口數量變化。

2. 老師在黑板上貼了一張南投縣的人口分布圖，並要同學們說一說自己對這張圖的理解，請將敘述正確的畫○，錯誤的打✕。



單位：每一點代表 1,000 人

- () (1) 小寧：「每一點代表 10,000 人。」
- () (2) 小韻：「點越密集，代表那個城鎮人口越多。」
- () (3) 小紹：「南投縣的人口分布由右往左遞減。」
- () (4) 小樂：「地形的不同可能是影響南投縣人口分布的原因之一。」

五、題組（每格 2 分，共 20 分）

1. 請仔細閱讀以下文章，並回答問題。

長期受到中國傳統和文化影響的越南，在傳統節日上和華人有相當程度的雷同。和華人一樣，每年的農曆過年也是越南當地最隆重的節日，現代的越南稱為「元旦節」，基本習俗和中國、臺灣等地相似，不過越南過年一般從農曆 12 月 23 日的灶王節起算，濃厚的氣氛會一直延續至正月 15 日元宵節為止。

春節對越南人來說，也是家人團圓的重要日子，家家戶戶在年節前夕也會趕辦年貨，一家團圓的年夜飯桌上一定要有春捲、肉類和糯米粽，用綠葉包成方形的粽子是用來祭祀祖先的，方形是取自「天圓地方」的古代思想，而外型像蒜頭的醃蕎頭更是必備的菜色。越南也有在門口貼春聯的習俗，然而自從越南不再使用漢字作為官方語言後，春聯改用拼音字母寫下祝福語，配上國旗底色的紅色，貼在門口相信會招來好運氣。

- () (1) 越南的過年和我們有哪一樣不同？
①貼春聯 ②吃粽子 ③辦年貨 ④吃團圓飯。
- () (2) 為什麼過年時，越南的粽子要包成方形？
①方形粽比較好包 ②取自「天圓地方」的古代思想 ③希望為人處事方方正正 ④方形粽可以避邪。
- () (3) 在越南，年節的氣氛會一直延續至什麼節日為止？
①中秋節 ②端午節

③清明節 ④元宵節。

泰雅族 ④卑南族。

2. 下列這張是菲菲在網路上找到的原住民族圖片，請問：

(作答完畢請檢查3次)



() (1) 這張照片的主題應該是什麼？ ①五年祭 ②飛魚祭 ③海神祭 ④祖靈祭。

() (2) 這張照片與哪個原住民族相關？ ①阿美族 ②雅美族 ③排灣族 ④泰雅族。

3. 小湘在上完地方人口數量變化的課程後，利用連假時到苗栗縣頭份市和臺東縣池上鄉旅遊的機會，除了拍照留念外，也訪問了當地居民關於近年人口變化的問題。請問：

() (1) 這兩個地方近年的人口數量變化為何？ ①苗栗縣頭份市人口逐漸增加，臺東縣池上鄉人口逐漸減少 ②苗栗縣頭份市人口逐漸減少，臺東縣池上鄉人口逐漸增加 ③兩地人口都逐漸增加 ④兩地人口都逐漸減少。

() (2) 承上題，影響近年臺東縣池上鄉人口的變化，主要和哪一個因素較有關？ ①產業發展的型態 ②地勢的高低 ③行政資源的多寡 ④交通的便利性。

4. 有朋的家鄉每年暑假期間都會舉辦傳統節慶，這個慶典主要是藉由獻上祭物，祈求豐收，感謝祖靈保佑，並承諾遵守祖訓。請問：

() (1) 上述所提到的傳統節慶是什麼？ ①五年祭 ②祖靈祭 ③飛魚祭 ④豐年祭。

() (2) 從傳統節慶推論，有朋屬於哪個族群？ ①客家族群 ②泰雅族 ③排灣族 ④雅美族。

少年必須通過賽跑、野外夜宿等成年禮俗的考驗，培養責任感與敬老尊賢的美德，才能真正成為大人，並藉此感念祖先賜予力量。

() (2) 請判斷以上文章中的應填入哪個原住民族？ ①雅美族 ②阿美族 ③