

一、選擇題：每題 3 分(共 30 分)

- ( ) 1. 地圖上的 N 指的是哪個方位？  
 ①南方 ②西方 ③東方 ④北方
- ( ) 2. 小光家附近的果園實際觀察，關於他運用感官所觀察到的事項，下列哪一項敘述正確？  
 ①眼：看到果園主人採收橘子  
 ②耳：看到果樹結滿許多橘子  
 ③口：在果園可以聽到鳥叫聲  
 ④鼻：橘子嘗起來酸酸甜甜的
- ( ) 3. 我們可以透過下列哪一個方法，來了解居住地的地方？  
 ①實際觀察 ②蒐集資料 ③訪問居民 ④以上方法都可以
- ( ) 4. 下列哪個物品可以查到居住地的住址？  
 ①身分證 ②樂學卡  
 ③提款卡 ④健保卡
- ( ) 5. 想要蒐集居住地的資料，採取下列哪一個方式不適當？  
 ①拜訪在地人 ②利用網路搜尋  
 ③詢問觀光客 ④實地參觀、踏查
- ( ) 6. 101 大樓位於下列哪個地方，是臺灣指標景點？  
 ①臺東縣鹿野鄉 ②臺北市信義區  
 ③高雄市鼓山區 ④嘉義縣東石鄉
- ( ) 7. 下列哪一項較可能是對都市環境的描述？  
 ①居住人口稀少 ②有大片農田  
 ③居民多從事農業 ④大眾運輸便利
- ( ) 8. 下列哪一個因素較不可能成為居住地的特色？  
 ①自然景物 ②建築  
 ③飲食 ④公車站牌
- ( ) 9. 下列哪個是對平原地區的描述？  
 ①很常看到森林 ②居民會種植小米  
 ③常看到茶園和果園 ④道路平坦
- ( ) 10. 早期彰化西南沿海的居民利用海牛來從事哪一項生產活動？  
 ①出海捕魚 ②養殖虱目魚  
 ③在潮間帶採蚵 ④固定漁網

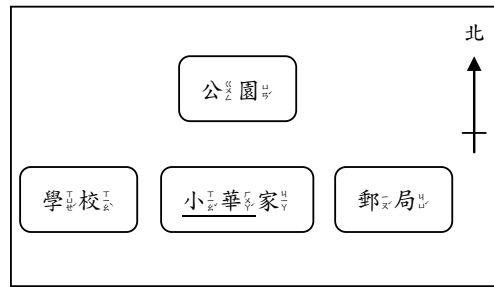
二、題組題，問題答案正確的在 ( ) 裡打✓，錯誤的打✗：每答 1 分(共 48 分)

1. 「最近，小東跟著家人搬家到新地方，他想了很久，想了解一下居住地的環境，但一時之間不知道該從哪裡開始。」

(1) 小東可以透過下列哪些方法來認識新家的居住環境？

- ( ) ①在家睡覺。 ( ) ②閱讀地圖。  
 ( ) ③實際觀察。 ( ) ④蒐集資料。  
 ( ) ⑤寫作業。 ( ) ⑥訪問居民。

(2) 看圖回答問題



- ( ) ①小華家的北邊是公園。  
 ( ) ②郵局在學校的西邊。

2. 「最近，陳伯伯搬到新家居住，想邀請親朋好友到家裡作客，但一時之間想不起自己新家的地址。」

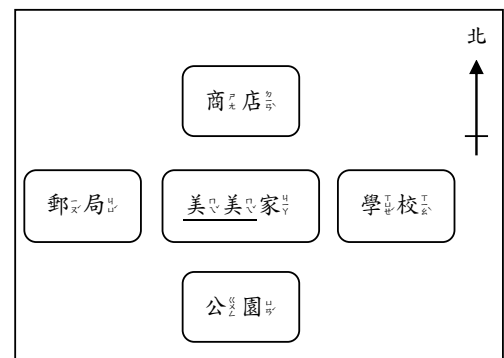
(1) 陳伯伯可以透過下列哪些物品找到新家的地址？

- ( ) ①門牌。 ( ) ②健保卡。  
 ( ) ③郵件。 ( ) ④提款卡。  
 ( ) ⑤車牌。 ( ) ⑥身分證。  
 ( ) ⑦手錶。 ( ) ⑧戶口名簿。

(2) 陳伯伯新家附近會常常看到居民在養殖魚或蝦。想想看，他目前居住的地方可能位於哪裡？

- ( ) ①可能位於海邊。  
 ( ) ②可能位於偏遠山區。

3. 根據下圖回答問題，選出正確的答



(1) 美美家的北邊是下列哪個地方？

- ( ) ①商店。  
 ( ) ②公園。

(2) 郵局在學校的哪一邊？

- ( ) ①郵局在學校的西邊。  
 ( ) ②郵局在學校的東邊。


★ 背面還有題目，請翻面繼續作答！

(3)公園在商店的哪一邊？

( )①公園在商店的北邊。

( )②公園在商店的南邊。

4. 看圖回答問題：



(1)圖中的①是指什麼？

( )①圖名。

( )②方位標。

( )③街道名稱。

(2)安心醫院位於哪兩條路的交叉路口上？

( )①成功路和安樂路。

( )②和平路和成功路。

( )③和平路和安樂路。

5. 「走出家門口就可看到梯田美景，這幅美景也吸引許多遊客前來拍照、打卡。假日時，爸爸則會開車帶著我們前往一個小時路程之外，的連鎖賣場採買。回家的路途上，偶爾能看見美麗雲海。」根據上述小虹的描述回答問題：

( )①小虹可能住在山區。

( )②小虹一家應以養殖漁業為生。

( )③小虹居住的地方空氣品質不錯。

( )④居民可能會種植小米。

6. 小萌是社區小小導覽員，下列哪些居住地的環境和特色是她可以介紹的？

( )①火車站的歷史。

( )②當地的傳統產業。

( )③自己數學段考的分數。

( )④當地的特有自然生態。

( )⑤鄰居家裡客廳的擺設。

( )⑥當地最具代表性的美食。

7. 小芬訪問家中長輩之前居住的地方和生活方式，並且記錄下來。哪些長輩的敘述合理？

( )①有原住民身分的舅公曾種過小米。

( )②住在海邊的外公天天出海捕魚。

( )③叔公一輩子住在鄉村，也當了一輩子的農夫。

( )④住在山裡的奶奶以出海捕魚為生。

8. 下列哪些情況可以透過閱讀地圖來找到需要的資訊？

( )①阿芬想要品嚐當地的餐廳美食。

( )②車子快沒油了，爸爸想找最近的加油站。

( )③媽媽想找晚餐料理的做法。

( )④哥哥外出工作，想找便利商店買咖啡。

三、圖表題：每題1分(共14分)

1. 星月想進一步認識居住的地方，她計畫最近訪問地方上的長輩有關居住地方的發展過程，下列哪些是她應該準備的物品？在□裡打✓：



2. 觀察下列阿旺伯伯平常的工作情形後，回答問題，把對的答案圈起來：



阿旺伯伯是一位(農夫/司機)，因為工作關係，平常居住在(都市/鄉村)地區，在他家附近可以見到(廣闊農田/高樓林立)，景觀十分美麗。

★ 第二張還有題目，請翻面繼續作答！

3. 下列為地圖的圖例，請將對應的代號

填在□中：

- ㄅ、警察局
- ㄆ、學校
- ㄇ、便利商店
- ㄏ、橋梁

①	
②	
③	
④	

分數組距統計	
100分	
99-90分	
89-80分	
79-70分	
69-60分	
59分以下	



四、閱讀理解題：閱讀短文後回答問題，每答2分，共8分

快樂社區是一個位於山區的小農村，雖然人口少，但居民時常碰面、聊天，生活悠閒、愉快。

- (1) 哪一個較可能是快樂社區大多數居民的職業？  
 ①漁夫 ②茶農  
 ③造船廠員工 ④魚罐頭加工廠員工
- (2) 透過下列哪一種方式，較無法進一步認識快樂社區的環境特色？  
 ①查閱字典 ②閱讀地圖 ③實地觀察  
 ④訪談居民
- (3) 下列哪一項較有可能是快樂社區的生活情形？  
 ①居民會出海捕魚 ②有眾多商店可供購物  
 ③居民會養殖魚蝦和貝類 ④居民會種植小米
- (4) 快樂社區的街道圖上，比較不會出現下列哪個資訊？  
 ①學校段考的時間 ②標示方向的方位標  
 ③街道圖的名稱 ④街道的名稱

★ 請仔細檢查後再交卷!