

一、選擇題：每題 2 分，共 24 分

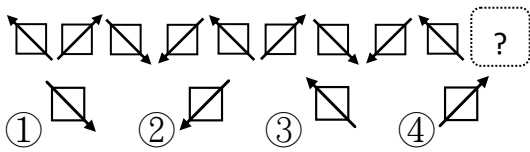
() 1. 美麗到書店買 2 本記事本，共花了 78 元，一本記事本要多多少元？

- ①38 元 ②39 元 ③40 元 ④41 元

() 2. 東東診所買了 800 個口罩，平均分給 7 個護理師，每人最多可以一分得幾個口罩？

- ①112 個 ②113 個 ③114 個
④115 個

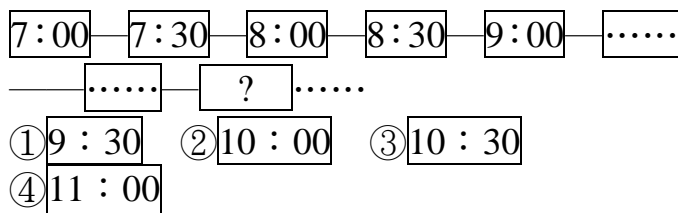
() 3. 按照規律，想想看，下一個圖形是什麼？



() 4. 小芳寫考卷，不小心將題目的加數弄混，考卷上被加數是 $\frac{5}{7}$ ，正確答案是 1，原本題目的加數是多少？

- ① $\frac{1}{7}$ ② $\frac{2}{7}$ ③ $\frac{3}{7}$ ④ $\frac{4}{7}$

() 5. 下面是按照規律紀錄電子鐘顯示的時間，第 8 個紀錄的電子鐘是哪一個？



() 6. 下面哪一個選項是正確的？


- ① $\frac{3}{10} + \frac{6}{10} > 1$ ② $\frac{5}{10} + \frac{2}{10} < \frac{3}{10} + \frac{3}{10}$
③ $\frac{4}{10} + \frac{4}{10} = 1$ ④ $\frac{6}{10} + \frac{4}{10} = 1$

() 7. 小柔連續 10 週按照下表規律閱讀文章，到第 7 週結束後，她一共讀了多少篇文章？

周次	一	二	三	四	五	六	七
篇數	2 篇	5 篇	8 篇	11 篇	14 篇	...	? 篇

- ①76 篇 ②77 篇 ③78 篇 ④79 篇

100分	
99-90分	
89-80分	
79-70分	
69-60分	
59分以下	



() 8. 小葳拿出百數表，從 1 開始的數字有規律的畫上記號，哪一個選項的說法是正確的？

1	2	3	4	5	6	7	8	9	10
11	12	13	14	15	16	17	18	19	20
21	22	23	24	25	26	27	28	29	30

- ①百數表上 34 要畫上圓形記號
 ②百數表上 55 要畫上正方形記號
 ③百數表上 76 要畫上圓形記號
 ④百數表上 89 要畫上三角形記號

() 9. 一袋 900 公克的糖粉，用掉了 375 公克做麵包，剩下糖粉分成 5 小袋，每一小袋會有多少公克的糖粉？

- ①135 公克 ②125 公克
③115 公克 ④105 公克

() 10. 822 顆巧克力平分裝成 6 盒，一盒有多少顆巧克力？

- ①126 顆 ②127 顆
③136 顆 ④137 顆

() 11. 依照「△○□△○□……」的順序排列。下一個圖形是什麼？

- ①○ ②△ ③□ ④無法判斷

() 12. 文具店消費滿一百元可集一點，集滿 7 點可以換一張抽獎券。老師消費了 2400 元，最多可以換多少張抽獎券？

- ①1 張 ②2 張 ③3 張 ④4 張



★ 背面還有題目，請翻面繼續作答！

二、計算題：請寫出計算過程，第①②題，每題 2 分，第③-⑥題，每題 3 分，共 16 分

① $\frac{2}{8} - \frac{5}{8} = (\quad)$

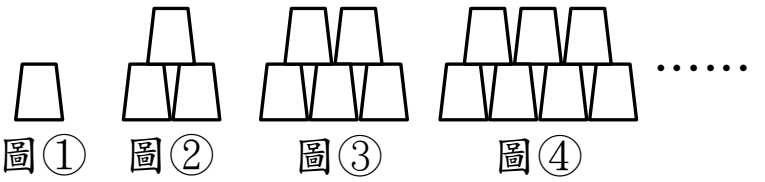
② $1 - \frac{6}{12} = (\quad)$

③ $190 \div 2 = (\quad) \cdots (\quad)$

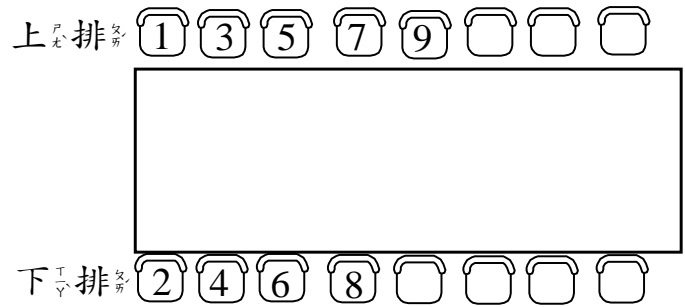
④ $555 \div 8 = (\quad) \cdots (\quad)$

⑤ $865 \div 7 = (\quad) \cdots (\quad)$

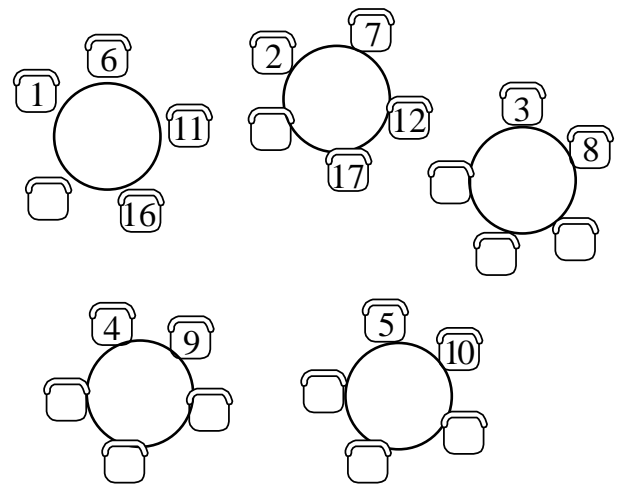
⑥ $238 \div 4 = (\quad) \cdots (\quad)$



4. 東光公司舉辦聚餐活動，座位安排如下圖，8號和19號有在同一排嗎？()




5. 三年級舉辦同樂會，老師將全班 25 個同學分成五桌，按照座號安排座位如下圖，8號和14號有坐在同一桌嗎？()



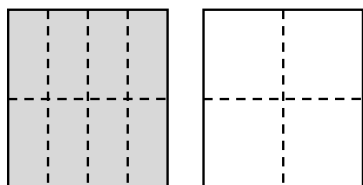
三、看圖畫畫看，做做看：每答 2 分，共 30 分

1. 按照規律，想想看，下一個圖形是什麼，並且畫下來。



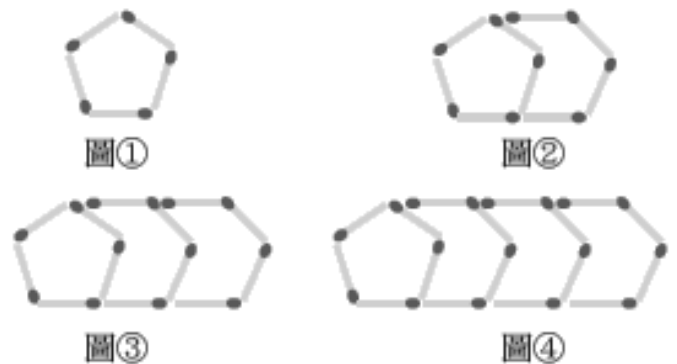
2. 畫一畫，再回答問題。 $\frac{8}{8}$ 和「四分之八」一樣多嗎？

$\frac{8}{8} = \frac{(\quad)}{4}$



3. 按照規律疊杯子，圖⑥要用()個杯子。

6.



(1) 把圖①~圖④火柴棒的數量按照順序記下來。

圖①()根、圖②()根、圖③()根、圖④()根

(2) 按照這個規律，排圖⑤需要多少根()根火柴棒



背面還有題目，請翻面繼續作答！

7. 一條紙帶平均分成 12 份，塗色如下。



- (1) 和 合起來共有()條。
- (2) 和 合起來共有()條。
- (3) 和 合起來共有()條。
- (4) 和 合起來共有()條。

四、把做法一步一步記下來(橫式列式，直式計算)：每題 5 分，共 30 分

1. 阿姨將一條長 277 公分的鐵絲，每 4 公分剪成一段，最後剩下 9 公分，阿姨剪了幾段鐵絲？

先算：

再算：

2. 西點師傅做了 216 片餅乾，每 6 片裝成一包，賣掉 23 包後，還剩下多少包餅乾？

先算：

再算：

3. 有 109 個紅豆餅，每 5 個裝成一盒，至少要多少個盒子才能把全部的紅豆餅裝完？

先算：

再算：

4. 大銘帶了 1500 元，買書花了 699 元，剩下的錢剛好可以買 3 條延長線，一條延長線要多多少元？

先算：

再算：

5. 外公包了 189 顆水餃，每 9 顆裝成一袋，加上原本已經包好的 6 袋，一共有多少袋水餃？

先算：

再算：

6. 小傑有 339 元，小佳有 206 元，兩人的錢合起來，剛好可以買 5 本雜誌，一本雜誌要多多少元？

先算：

再算：

★ 請仔細檢查完再交卷！