

一、計算題：每題 3 分，共 30 分


① $38 \times 8 = (\quad)$	② $21 \times 3 = (\quad)$
③ $213 \times 4 = (\quad)$	④ $39 \times 3 = (\quad)$
⑤ $408 \times 6 = (\quad)$	⑥ $229 \times 8 = (\quad)$
⑦ $59 \times 7 = (\quad)$	⑧ $287 \times 7 = (\quad)$
⑨ $145 \times 7 = (\quad)$	⑩ $713 \times 6 = (\quad)$

二、填填看：每答 2 分，共 40 分

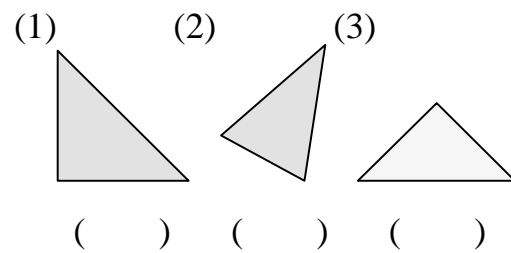
- 一張卡片 28 元，佳芸有 120 元，夠不夠買 5 張卡片？()
- $4 \times 9 = (\quad)$
 $40 \times 9 = (\quad)$
- 把 8 個五元硬幣堆成一疊，一共有 9 疊，是()元。
- 「角」是由()個頂點和()條邊組成。
- 下題中，□中應該填入()。

$$\begin{array}{r} \square \ 8 \\ \times \ 3 \\ \hline 2 \ 0 \ 4 \end{array}$$

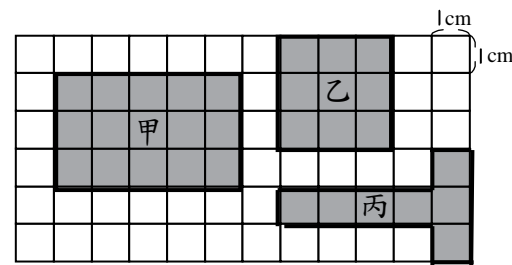
6. 用 12 枝一樣長的吸管排圖形(如下圖)，圖形中一共可以找到()個正方形。



7. 下面的圖形中有直角的在()裡打√，並用┐來標示。




8. 下面的圖形都是用 1 平方公分方格排成的。



(1) 上面圖形的面積由大到小的排列是：() > () > ()。

(2) 面積最大和最小的相差多少平方公分？() 平方公分。

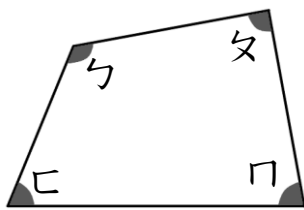
9. 下面的圖形都是用 1 平方公分方格排成的。



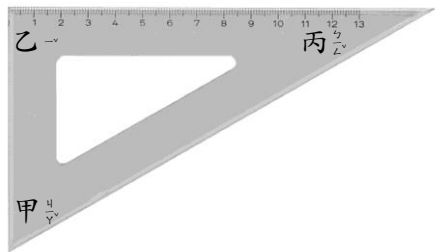
(1) () 的面積比 54 平方公分小，比 28 平方公分大。

(2) () 的面積比 12 平方公分小，比 2 平方公分大。

10. 下圖中哪一個角最大？()



11. 下面是一個三角板。

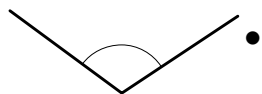


(1) 哪一個角和直角一樣大？()

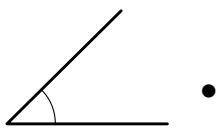
(2) 甲和丙比直角大或小？()

三、連連看：每答2分，共14分

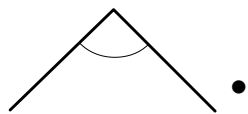
1. 下面各是什麼角？



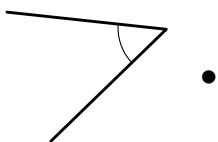
• 直角



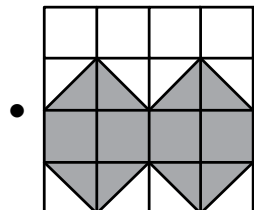
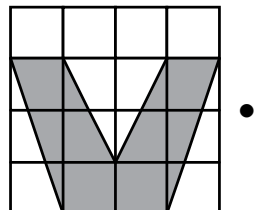
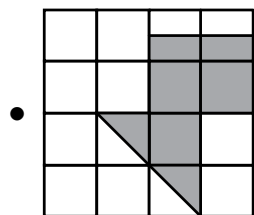
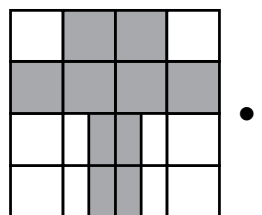
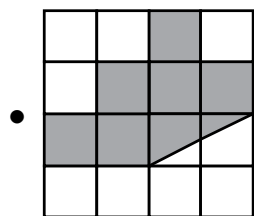
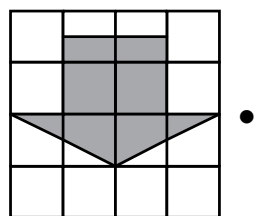
• 鈍角



• 銳角

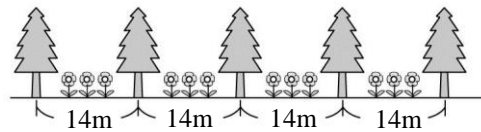


2. 每一個方格是1平方公分，把面積一樣大的連起來。



四、應用題：每題4分，共16分

1. 如圖，每棵樹之間距離都相等，從第1棵到第5棵樹的距離有()m。



2. 品如有一350元，晴子的錢剛好是品如的4倍，晴子有多少元？

3. 便利商店推出集點活動，購物滿66元可集一點，集滿8點可換書夾一個。小湘想換一個書夾，她在便利商店消費多少元呢？

4. 阿強每天去買1枝12元的棒棒糖，一星期共花掉多少元？

五、加分題：3分

下面圖形是由1個正方形和2個長方形組成的圖形，圖中「？」部分的長度是多少公分？

