

7. 小安有 9040 元，小梓有 9300 元，小好有 494 元，小彥有 9404 元。誰的錢最多？()

8. 在 1923 數字中的 9 表示()，

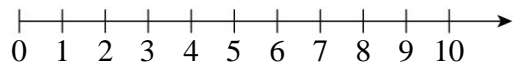
在 4296 數字中的 9 表示()。

9. (1) 7500 可以分成()個千和()個百。

(2) 6200 可以分成()個千和()個百。

(3) 7500 比 6200 多了()個千和()個百。

10. 小青蛙從數字線上 7 的位置，往左移動 4 大格，會到哪一個數字？()

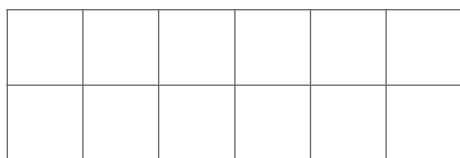


三、計算題：每題 3 分，共 12 分

| | |
|-----------------------------|-----------------------------|
| ① $2687 + 3369 = (\quad)$ | ② $600 - 379 = (\quad)$ |
| ③ $1120 + 5347 = (\quad)$ | ④ $3128 - 2099 = (\quad)$ |

四、做做看看：每題 3 分，共 6 分

1. 用尺畫出 40 毫米的直線。



2. 買一臺 3724 元的印表機，要怎麼付錢才剛好？用 1000、100、10 和 1 畫看看。



五、應用題：每題 4 分，共 16 分

1. 把一條彩帶剪掉 24 公分 6 毫米後，還剩下 14 毫米，這條彩帶原來長幾公分幾毫米？

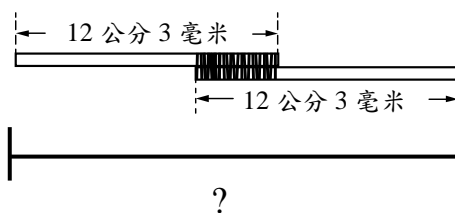
2. 有 5417 個人參加兒童路跑，其中有 3255 個男生，剩下是女生，女生有幾個？

3. 有一個長方形模型花園，長比寬長 2 公分 1 毫米，已知長是 10 公分，寬有多長？

4. 成衣工廠今天賣出 5493 件，昨天賣出 2553 件，這兩天工廠一共賣出多少件衣服？

六、加分題：3 分

兩根長 12 公分 3 毫米的木棍綁在一起(如下圖)，已知繩子連接處長 4 公分 2 毫米，全長是多多少少公分多少毫米？



★ 請仔細檢查完再交卷！