

基隆市東光國小 111 學年度第 2 學期三年級數學領域第三次定期評量試題

三年級 忠 班 座號 姓名 家長簽名

一、選擇題：每題 2 分，共 10 分

() 1. 7.8 公分是幾毫米？

- ①78 毫米 ②780 毫米
③7800 毫米 ④78000 毫米

() 2. 下列哪一項敘述正確？

- ① $\frac{9}{10} = 0.1$ ② $\frac{7}{10} = 0.3$
③ $\frac{5}{10} = 0.5$ ④ $\frac{3}{10} = 0.7$

() 3. 「1.2、2.1、1.5、2.5」，哪一個數是最小的？ ①

- 1.2 ②2.1 ③1.5 ④2.5

() 4. 下面是自強號火車票價表，小照從松山

坐到竹南，要花多少元？

松山							
23	臺北						
31	23	板橋					
81	66	50	桃園				
103	89	72	23	中壢			
192	177	161	111	89	新竹	(單位：元)	
235	220	204	154	132	43	竹南	
383	369	352	303	280	191	148	清水

- ①31 元 ②192 元 ③235 元
④383 元

() 5. 冰箱裡有 1 瓶沙士，

小杰喝掉半瓶，媽媽又

放進 1 瓶，冰箱裡現在

有幾瓶沙士？ ①1.5 瓶

- ②0.5 瓶 ③1.0 瓶 ④2

瓶

二、看圖做做看看：每格 2 分，共 20

分

1. 下面是小夏參加校外教學

的活動行程表，根據行程

表回答問題：

7:30~7:50	教室集合
7:50~9:00	搭遊覽車到故宮博物院
9:00~11:00	參觀故宮博物院
11:00~12:00	參觀至善園
12:00~13:00	午餐
13:00~14:30	參觀順益博物館
14:30~16:00	搭車返校放學

(1) 校外教學活動，最晚

是什麼時候在教室集合？

上午 () 時 () 分

(2) 午餐時間是什麼時候

? () 時^ア到^カ () 時^ア


(3) 上^ア午^キ 10 時^ア, 小^ト夏^ニ正^シ 在^ア 做^ス 什^ニ麼^ニ?

()

(4) 小^ト夏^ニ參^カ觀^ス 至^ク 善^ク 園^ヲ 的^ノ 時^ヲ 間^ヲ 有^ク 幾^ク 分^ヲ 鐘^ヲ? () 分^ヲ 鐘^ヲ

2. 量^カ 量^カ 看^テ, 在^ア () 裡^ニ 填^キ 入^ル 小^ト 數^ヲ.

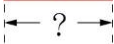
數^ヲ.



() 公^シ 分^ヲ

3. 量^カ 量^カ 看^テ, 在^ア () 裡^ニ 填^キ 入^ル 小^ト 數^ヲ:

數^ヲ:



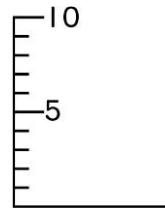
() 公^シ 分^ヲ

4. 用^ヒ 色^ゼ 筆^ヲ 在^ア 量^カ 杯^ノ 上^ニ 畫^キ 出^ス 指^シ 定^メ 的^ノ 水^ノ 量^ヲ 高^ク 度^ヲ, 並^シ 在^ア () 裡^ニ 寫^シ 出^ス 小^ト 數^ヲ.

的^ノ 水^ノ 量^ヲ 高^ク 度^ヲ, 並^シ 在^ア (

) 裡^ニ 寫^シ 出^ス 小^ト 數^ヲ.

$\frac{7}{10}$ 杯^ヲ



() 杯^ヲ

三、配^キ 合^セ 題^ヲ: 每^ク 格^ヲ 3 分^ヲ, 共^シ 15 分^ヲ

1. () 裡^ニ 是^レ 多^ク 少^ク? 對^シ 的^ノ 在^ア

中^ニ 打^テ \checkmark :

$7 \times () = 21$

21×7

$21 \div 7$

2 () 裡^ニ 是^レ 多^ク 少^ク? 對^シ 的^ノ 在^ア 中^ニ

打^テ \checkmark :

$48 \div () = 8$

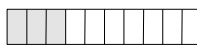
48×8


$48 \div 8$


3. 對^シ 的^ノ 在^ア 中^ニ 打^テ \checkmark :



是^レ 1 條^ノ 紙^ノ 帶^ヲ

(1)  是^レ 0.3 條^ノ 紙^ノ 帶^ヲ

(2)  是^レ 0.5 條^ノ 紙^ノ 帶^ヲ

(3)  是^レ 0.8 條^ノ 紙^ノ 帶^ヲ

4. 對^シ 的^ノ 在^ア 中^ニ 打^テ \checkmark :

① $87 \div () = 3$

$() = 87 \times 3$

$() = 87 \div 3$

② () $\div 7 = 63$

□₁. () $= 63 \div 7$

□₂. () $= 63 \times 7$

四、填「 $>$ 」、「 $<$ 」或「 $=$ 」：每格 2 分，共 16 分

① 4 () 3.9

② 2.4 () 3.2

③ 2 □ 0.2

④ 3.8 □ 8.3

⑤ 2.2 () 1.8

⑥ 8.2 □ 10.5

⑦ 0.6 () $0.9 - 0.4$

⑧ 10 個 □ 0.1 □ 1.1

五、寫出直式計算算式：1-3 題，每題 3 分、第 4 題 5 分，共 14 分

① $9.7 + 0.3 =$ ()

② $2.5 + 7.6 =$ ()

③ $16.4 - 7.8 =$ ()

先用直式計算，再看，再驗算

④ $327 \div 5 =$ () \cdots ()

六、應用題：每題 5 分，共 25 分

1. 廚房有 4.3 包糖，姐姐做甜點用了 1.4 包，還剩下幾包糖？

2. 小孟把 13.7 公升的牛奶和 8 公升的紅茶混合，可以調製成幾公升的紅茶牛奶？

3. 家裡有白米跟紫米，白米有 3.1 公升，比紫米多 1.2 公升，紫米有幾公升？

4. 把做法用算式記下來，並

驗算：

有 257 張椅子，每 8 張排成一排，可以排成幾排？剩下幾張椅子？

5. 老闆把一袋沙士糖平分

成 9 包，每包有 125 顆，這

袋沙士糖有幾顆？

(1) 拉布多犬比黃金獵犬高幾公分？

(2) 拉布多犬比鬥牛犬高幾公分？

恭喜完成記得檢查 3 次！



七、PIRLS 題型 (加分題)：6 分

小明家養了 3 隻狗，

分別是拉布多犬、黃金

獵犬和鬥牛犬，拉布多

犬身高約 57.5 公分，黃

金獵犬平均身高約 55.8 公

分，黃金獵犬比鬥牛犬高 22.9

公分，請依情境回答問題：