

基隆市東光國小 111 學年度第 2 學期三年級數學領域第一次定期評量試題

三年級忠班 座號 姓名 家長簽名

一、選擇題：每題 2 分，共 10 分

( ) 1. 「5、4、3、2、1，生日快樂

樂！」，倒數的時間用

什麼單位來記錄較為

合適？ ①秒 ②分

③時 ④都不合適

( ) 2. 「 $65 \div 4$ 」這個算式中所得

的餘數是多少？

①1 ②2 ③3 ④4

( ) 3. 找出最接近「 $249 \div 5$ 」

的數。①50 ②60 ③70 ④

80

( ) 4. 從上午 5 時到下午 7

時，是經過了多少小時

？ ①19 小時 ②12 小時

③14 小時 ④17 小時

( ) 5. 有 642 顆糖果，每 6

顆裝成 1 袋，共可裝


成幾袋？ ①104 袋 ②

105 袋 ③106 袋 ④107

袋

二、看圖做題：每格 2 分，共 28 分

1. 看圖回答問題：



(1) 現在是上午

( ) 時 ( ) 分。


(2) 25 分鐘前是上午

( ) 時 ( ) 分。

(3) 20 分鐘後是上午

( ) 時 ( ) 分。

2. 看圖回答問題：



(1) 現在是下午

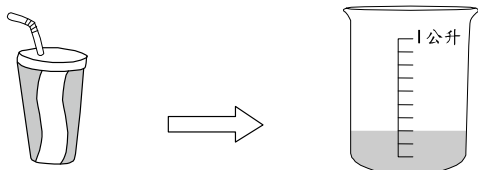
( ) 時 ( ) 分。

(2) 3 分鐘前是下午

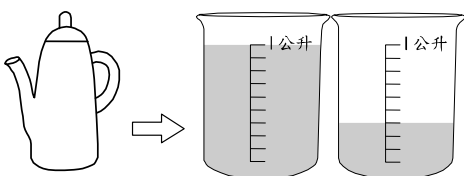
( ) 時 ( ) 分。

3. 看圖回答問題：

甲



乙



- (1) 甲容器的容量是 ( ) 毫升。
- (2) 乙容器的容量是 ( ) 毫升。
- (3) 乙容器的容量比甲容器的容量多 ( ) 毫升。
- (4) 甲容器和乙容器的容量合起來是 ( ) 毫升。

三、圖圖看看：每格 3 分，共 15 分

1. 圈出合理的答。

浴缸的容量大約是

5 公升

250 公升

2. 營養午餐湯桶的容量大約

2L

12L

是


3. 1 瓶家庭號的優酪乳大約

206 mL

1380 mL

是

4. 下圖是兩個相同的水壺



① 哪一個水壺現在裝的水比較多？

( 甲 , 乙 , 一樣多 )

② 哪一個水壺的容量比較多？

( 甲 , 乙 , 一樣多 )

四、填入 >、< 或 =：每格 2 分，共 12 分

1.  $45 \div 5$    $54 \div 6$

2.  $32 \div 8$    $24 \div 3$

3. 40 毫升  40 公升

4. 200 個 1 毫升  190 個 1 毫升

5. 3085 毫升  3 公升 90 毫升

6.  $480 \div 8$    $400 \div 8$

五、寫出直式計算算式：每題 4 分、共 16 分

1.  $990 \div 9 = ( \quad )$

2.  $69 \div 7 = ( \quad ) \cdots ( \quad )$

3.  $92 \div 8 = ( \quad ) \cdots ( \quad )$

4.  $880 \div 8 = ( \quad )$

六、應用題：共 19 分

1. 1 枝鉛筆賣 9 元，付了 400 元給老闆，最多可買幾枝？找回幾元？（4 分）

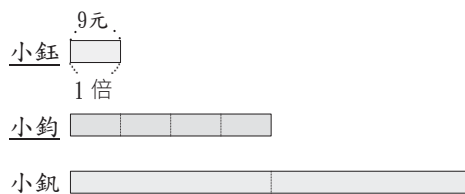
2. 媽媽從下午 2 時 15 分開始烤餅乾，20 分鐘後烤好，她在下午幾時幾分烤完？（4 分）

3. 花店裡有 360 朵向日葵，每 8 朵包成一束，賣出 8 束後，還剩下幾束向日葵？（3 分）

4. 小曼有 97 個積木，每 9 個分成一堆，共可分成幾堆？還剩下幾個？（4 分）

5. 把做法用算式記下來。

小鈺有 9 元，小鈞的錢是 小鈺 的 4 倍，小鈺 的錢是 小鈞 的 2 倍，小鈺 有多少元？（4 分）





七、 PIRLS 題型 ( 加分題 ) : 5

分

1. 周老師因為天氣變冷，一不小心感冒了，醫生告訴她每天只要多喝溫開水，適度的運動，感冒就會好，有 1 個很簡單的計算公式：1 公斤需要 30 毫升的水，周老師的體重 65 公斤，請問她 1 天大約需要喝幾公升幾毫升的水？