


基隆市東光國民小學111學年度第2學期一年級數學領域
第一次定期評量試題

座號：__ 姓名：_____ 得分：_____

家長簽章：_____



一、選擇題：每題2分,共10分

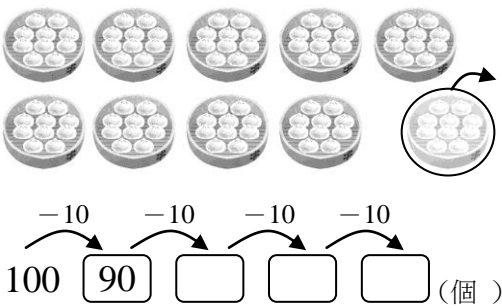
- () 1. 3 個十和 7 個一合起來是多少？①37
②73 ③10
- () 2. 數一數，牙刷和幾個迴紋針一樣長？
①12 個 ②13 個 ③14 個



- () 3. 數字 65 讀作什麼？
①六五②六十五③五十六
- () 4. 阿豪排隊排在第 33 個，他後面第 7 個人是第幾個？ ①第 39 個 ②第 41 個 ③第 40 個
- () 5. 有 47 顆軟糖，分給 25 個小朋友一人 2 顆，軟糖夠不夠？
①不夠 ②夠 ③不知道

二、填填看:每格 2 分,共 44 分

1. 有 100 個小籠包，吃掉 10 個
剩下幾個？再吃掉 10 個
呢？……

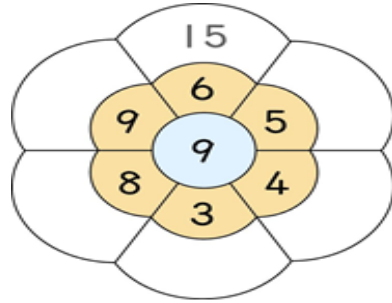


2. 填入適當的數：

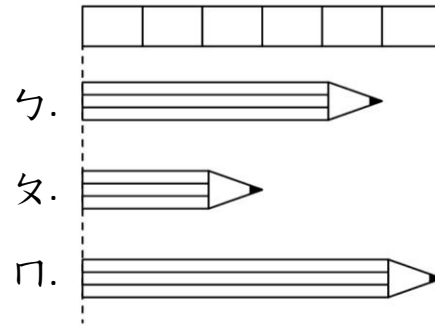
$$2 - 12 - (\quad) - (\quad) - 42 -$$

$$(\quad) - (\quad)$$

3. 加法填填看：

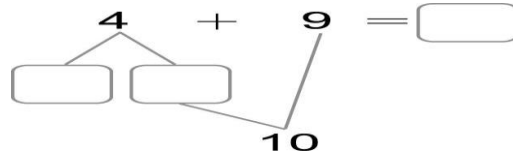


4. 看圖回答問題：

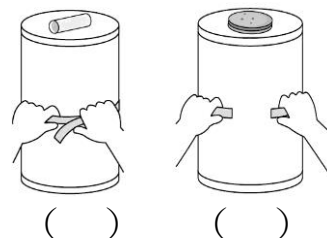


- (1) ㄅ 筆和 () 個積木一樣長。
(2) ㄆ 筆和 () 個積木一樣長。
(3) ㄇ 筆和 () 個積木一樣長。
(4) ㄇ 筆和幾枝 ㄆ 筆一樣長？ () 枝
(5) ㄅ 筆和 ㄆ 筆相差幾個方塊？ () 個

5. 在空格中填入適當的數：



6. 用一樣長的紙條圍圍看，哪個桶子圍一圈的長度比較長？在 () 中打 \checkmark 。



- () ()

三、計算題:每題 2 分,共

- (用心算算看)
1. $8+8=(\quad)$
2. $7+8=(\quad)$

背面還有試題要翻面繼續寫喔~

3. $7+9=()$

4. $6+5=()$

四、應用題:(每題 4 分,共 20 分)

1.



- (1) ㄅ 排在第 () 個。
- (2) ㄇ 排在第 () 個。
- (3) 排在 ㄆ 後面第 3 個人是第 () 個。
- (4) 排在 ㄊ 前面第 2 個人是 () ?

2. 小柔摺了 8 隻紙鶴，小柔比小延少摺了 7 隻，小延摺了幾隻紙鶴？

算式：

答：() 隻

3. 一包糖果有 7 顆，兩包共有幾顆糖果？

算式：

答：() 顆

4. 存錢筒裡有 6 個 10 元錢幣，再放進 9 個，存錢筒裡共有幾個 10 元錢幣？

算式：

答：() 個

5. 哈密瓜禮盒有兩種，分別是 12 個裝 1 盒和 6 個裝 1 盒，每種各買 1 盒總共有幾個哈密瓜？

算式：

答：() 個

五、百數表填一填: 共 18 分

1	②		4	△5		8	9	10
11		13		15	16	17		19
	22	23		25			28	29
	32		34		36	37		40
41	42		44		46		48	49
51		53	54	55		57	58	60
	62	63		65		67	68	70
71		73	74				78	79
81	82		84	85	86			89
	92	93			96	97		99

①完成上面的百數表。(10 分)

②2 個一數把數過的數畫○。3 分

③5 個一數，數過的數畫△。3 分

④10 個一數，數過的數打√ 2 分

●加分題:(共 4 分)

下面是阿甫到東光百貨想購買的商品和販售價格，如果阿甫要買不同的商品，且共 18 元，可能可以買哪些東西？



答：_____