

基隆市東光國民小學111學年度第一學期一年級數學領域
第三次定期評量試題

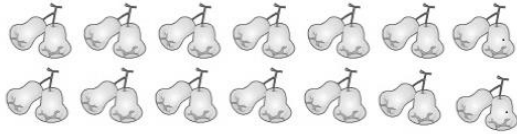


座號：__ 姓名：_____ 得分：_____


家長簽章：_____


一、選擇題：每題2分,共10分

() 1. 數一數，下面有幾個蓮霧？



- ①24個 ②26個 ③28個

() 2. 如附圖，從右邊數起， 在第幾個？



左

右

- ①4 ②5 ③6

() 3. 做哪一件事情花的時間最短？ ①把積木堆高

- ②把堆高的積木推倒
③把弄亂的積木收拾整齊

() 4. 下面哪一個選項的答案與其他兩個不同？ ①5+4

- ②4+5 ③6+1

() 5. 「□」這是什麼形狀？

- ①三角形 ②正方形 ③圓形

二、填填看:每格2分,共44分

1. 填一填。



2.

$9 \square 5 = (\quad)$




3. 先看短針再看長針：



短針指向()，長針指向()，是()點。

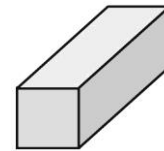
4. 先10個一圈，再寫出有多少。



有()顆糖果

5. 下面積木的面可描出什麼形狀？在□中打

✓ (可複選)：



正方形 三角形

長方形 圓形

容易滾動 容易堆高

有平的面 有彎彎的面

背面還有試題要翻面繼續寫喔

三、計算題:每題2分,共14分

(用心算算看)

1. $6 - 4 = (\quad)$


2. $7 - 7 = (\quad)$

3. $9 - 0 = (\quad)$

4. $5+2=$ ()
5. $4+6=$ ()
6. $7+1=$ ()
7. $4+5=$ ()

四、應用題:(每題 4 分,共 24 分)

1. 湯匙比叉子多幾枝?



算式:

答:多 () 枝

2. 一個麵包 4 元, 柔柔 買了 2 個, 一共要付多少元?

算式:

答:共要 () 元

3. (1) 洵甫 有 8 張色紙。送給 雅雅 3 張後, 洵甫 還剩下幾張色紙?

算式:

答:剩下 () 張

(2) 洵甫 有 8 張色紙。媽媽給 洵甫 2 張, 洵甫 共有幾張色紙?

算式:

答:共有 () 張



4. 宥宥 有 7 個好寶寶印章, 庭芸 比他少 3 個, 庭芸 有幾個好寶寶印章? 畫○做做看。

畫○:

算式:

答:()個

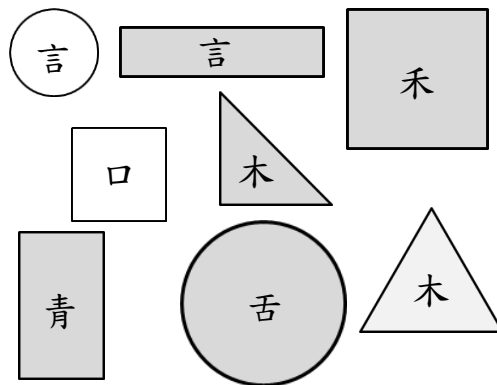
5. 仁豪 上午 9 點半去公園玩, 2 小時之後回到家, 仁豪 什麼時候回到家? 在□中打✓。



背面還有試題要翻面繼續寫喔

五、找出下圖中一樣的圖形, 並把圖形裡面的字組成另外一個字, 寫在 () 裡。

(每題 2 分, 共 8 分)



(1) 兩個正方形中的文字可以組成

()。

(2)兩個長方形中的文字可以組成

()。

(3)兩個三角形中的文字可以組成

()。

(4)兩個圓形中的文字可以組成()。

●加分題: (每題 2 分，共 4 分)

1. 找出下面符號所代表的數：

$$\text{☘} + \text{♥} = 3$$

$$\text{☘} + 6 = 8$$

$$\text{☘} = (\quad)$$

$$\text{♥} = (\quad)$$