






基隆市東光國小112學年度第2學期一年級數學領域第三次定期評量試題



一年級忠班 座號：___ 姓名：___ 家長簽名：___ 分數：___

一、填填看看：每格2分，共16分

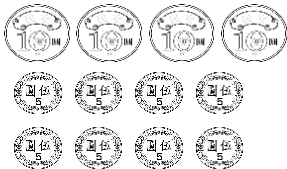
1. 1個  可以換成 () 個 .

2. 小翰有5個 ，想買1個 ，最少要付 () 個  才夠。

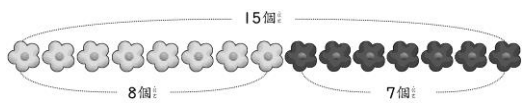
43元

3. 1張  可以換成 () 個 .

4. 數數看看，有幾元？ () 元



5. 看圖填填看看。



(1) $15 - 8 = ()$

(2) $8 + 7 = ()$

6.



(1) $17 - 13 = ()$

(2) $13 + 4 = ()$

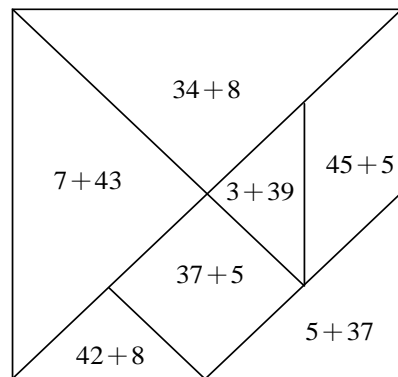
二、連連看看：每線3分，共9分

1. 把錢一樣多的連起來：

① 	② 	③
•	•	•
•	•	•
ㄅ. 	ㄆ. 	ㄇ.

三、做做看看：每格2分，共44分

1. 算算看看，把答案是 42 塗上 藍 色 和 50 的塗上 紅 色：



2. 小香到文具店買東西，看圖回答。

答下面問題：

圓規 剪刀 膠水 削鉛筆機


48元	68元	23元	99元

(1) 買一把剪刀至少要付 ()

個  和 2 個  才夠。


(2) 買一罐膠水至少要付 ()





個  和 1 個  才夠。

(3) 小哲身上有 9 個 ，夠買削鉛筆機嗎？ ()

背面還有有題題目喔！

3. 看圖做紀錄，並回答問題：



種類				
畫記	T			
數量				

(1)  比  多 () 個。

(2)  和  共有 () 個。

4. 一年忠班票選班長：

小芳	小琪	小如	小影	小宇
正下	正	正一	正	正下

(1) () 的票數最多。

(2) 票數最多和最少的差 () 票。

(3) 一年忠班每人各投 1 票，共有 () 個小朋友參加投票。

四、算算看看：每題 4 分，共 16 分

1. $48 - 27 = ()$ 2. $4 + 25 = ()$

3. $25 - 16 = ()$ 4. $15 + 16 = ()$

五、應用題：每題 4 分，共 16 分

1. 桌上有 33 顆巧克力，哥哥拿走了 17 顆後，桌上還剩下幾個巧克力？畫 $\textcircled{10}$ 和 $\textcircled{1}$ 做做看看。
算式：

答：() 個

2. 小穎吃了 34 顆葡萄，小雨吃了 18 顆，兩人共吃了幾顆葡萄？
算式：

答：() 顆

3. 小娟的撲滿裡有 50 個 1 元錢幣，買卡片用掉 9 個 1 元，撲滿裡還剩下幾個 1 元錢幣？(4 分)
算式：

答：() 個

4. 小云在堆積木比賽中共堆了兩堆，第一堆有 15 塊，第二堆比第一堆少 6 塊，第二堆有幾塊積木？
算式：

答：() 個

完 成 了 ！ 多 檢 查 幾 次 喔 ！

成績組距	
100分	
90~99	
80~89	
70~79	
60~69	
59分以下	