


基隆市東光國小112學年度第2學期一年級數學領域第一次定期評量試題

一一年忠班座號： _____ 姓名： _____ 家長簽名： _____ 分數： _____

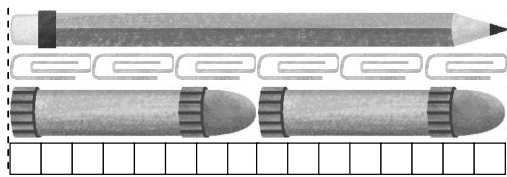
一、填填看看： 每格2分，共38分

1. 數一數，有多少？


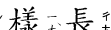


有 () 個十和 () 個一，合起來是 ()。


2.




① 一枝  和 根  一樣長。

② 一枝  和 枝  一樣長。

③ 一枝  和 個 一樣長。

④ 一枝  和 個 一樣長。

⑤ 一枝  和 個 一樣長。

⑥ 一枝  和 個 一樣長。

⑦ 一枝  和 個 一樣長。

⑧

3. 填填看看：

(1) 7個十和9個一合起來是 ()。


(2) 68的個位數字是 ()，十位數字是 ()。

(3) 96可以分成 () 個十和 () 個一。


4. 「95」的個位數字是 ()，十位數字是 ()。

5. 個位數字是5，十位數字是6，這個數是 。

6. 比比看，把比較小的數圈起來。



7. 比比看，把比較大的數圈起來。



8. 哪一間店的玩具比較便宜？



(歡樂屋 ， 玩具屋) 比較便宜。

9. 1個橘子和15個方塊合起來，等於 () 方塊。

背面還有題目喔！

二、連線看：每題3分，共27分

1. 答案不一樣的用線連起來：

9 + 6	•	8 + 6
8 + 3	•	6 + 6
5 + 8	•	4 + 7
7 + 7	•	7 + 8
3 + 9	•	9 + 4

2. 根據題目提示連線看：

- (1) 87 的個位數字 • 8
- (2) 68 的個位數字 • 7
- (3) 94 的十位數字 • 9
- (4) 89 的十位數字 • 4


三、圈圈看：每題5分，共15分

1. 圈一圈，數一數，共有多少？(10個一圏)


(1) () 顆



(2) () 本



(3) () 片



四、應用題：每題5分，共20分

1. 紅色盤子有 7 顆糖果，白色盤子裡有 8 顆糖果，兩個盤子共有幾顆糖果？

算式：

() 顆

2. 小軒今年 7 歲，再過 5 年，小軒是幾歲？

算式：

答：() 歲

3. 小瑜有 8 張獎狀，諾諾有 5 張獎狀，兩人共有幾張獎狀？

算式：

答：有 () 張

4. 皓皓有 5 張貼紙，云云比皓皓多 9 張，云云有幾張貼紙？

算式：

答：有 () 張

..... 完成囉！ 多多檢查幾次囉！

成績組距	
100分	
90-99	
80-89	
70-79	
60-69	
59分以下	