

基隆市東光國民小學112學年度第1學期二年級數學領域  
第一次定期評量試題

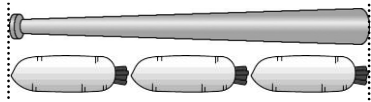
座號：\_\_ 姓名：\_\_\_\_\_ 得分：\_\_\_\_\_

家長簽章：\_\_\_\_\_



一、選擇題：每題2分,共10分

- ( ) 1. 一枝球棒的長度和幾根蘿蔔一樣長？  
①3根 ②4根 ③1根



- ( ) 2. 570的百位數字是多少？ ①5 ②7  
③0

- ( ) 3. 袋子裡有56顆水果糖和7顆可樂糖，  
共有幾顆糖？

$$56 + 7 = ( \quad )$$

用直式記下來，應該怎麼寫才正確？

① 
$$\begin{array}{r} 56 \\ + 7 \\ \hline \end{array}$$
    ② 
$$\begin{array}{r} 65 \\ + 7 \\ \hline \end{array}$$
    ③ 
$$\begin{array}{r} 56 \\ + 7 \\ \hline \end{array}$$

- ( ) 4. 199再加1是多少？ ①198 ②200  
③210

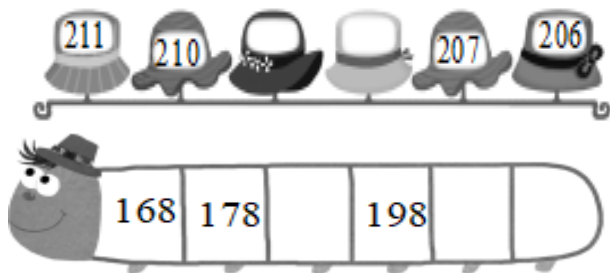
- ( ) 5. 下面的鉛筆長幾公分？



- ①7公分 ②6公分 ③5公分

二、填填看:每格2分,共30分

1. 按照順序填填看



2. 看圖表回答下列問題：



- (1) 個位數字是7的數是：  
( )。

- (2) 十位數字是3的數是：  
( )。

- (3) 百位數字是1的數有：  
( )、( )。

3. 在( )中填入 >、< 或 =。

(1)  $37 + 38$  ( )  $90$

(2)  $255$  ( )  $299$

(3)  $110$  ( )  $180 - 61$

(4)  $12 + 7$  ( )  $19$

(5)  $95$  ( )  $101$

(6)  $24$  ( )  $12 + 14$

四、填填看:每格3分,共12分


- (1) 用尺畫畫看：畫一條12公分的直線。




- (2) 用尺畫畫看：畫一條5公分的直線。



- (3) 畫畫看，用  $\boxed{100}$ 、 $\textcircled{10}$  和  $\textcircled{1}$  表示 273。



- (4) 畫畫看，用  $\boxed{100}$ 、 $\textcircled{10}$  和  $\textcircled{1}$  表示 158，補上不夠的錢。



背面還有試題要翻面繼續寫喔~

五、計算題:每題3分,共12分

(用直式算算看)

1.  $78 + 50 = ( \quad )$

2.  $17+28=( )$

3.  $164+36=( )$

4.  $16+5=( )$

六、應用題:(每題 4 分,共 20 分)

1. 東光國小有學生 16 人、老師 4 人和家長 13 人參加戶外教育，東光國小共有幾人參加戶外教育？

2. 一枝鉛筆有 23 公分，緊密排兩枝鉛筆共有多少公分？

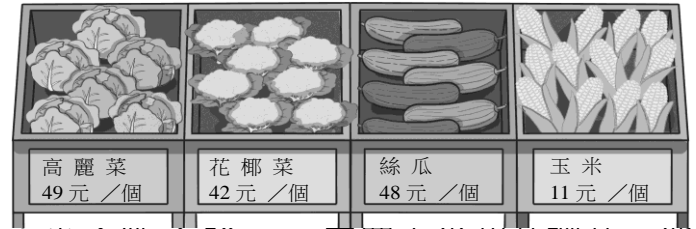
3. 小軒的一根頭髮長 17 公分，小杰的一根頭髮長 9 公分，誰的頭髮比較長？長幾公分？

4. 小諭買了一盒 67 元的彩色筆和一瓶 8 元的膠水，小諭共花了幾元？

5. 哥哥有 45 元，弟弟有 20 元，爸爸給弟弟 20 元後，誰的錢比較多？

七、生活經驗:(每題 4 分,共 16 分)

- 小丞和小琦到菜市場買蔬菜，看圖回答問題。



1. 小丞帶了 50 元，要買玉米和花椰菜，他的錢夠不夠？(夠，不夠)

2. 小琦帶了 100 元，要買絲瓜和高麗菜，她的錢夠不夠？(夠，不夠)

3. 各買 1 個花椰菜和高麗菜，大約是幾元？

(70 元，80 元，90 元)

4. 各買 1 個絲瓜和玉米，大約是幾元？

(60 元，70 元，80 元)

- 加分題:(共 4 分)如果你要當小小店長至少要學會這學期那些單元？