

一、選擇題 (每題 3 分，共 12 分)

1. ( ) 以下 4 個時刻依照一天中的先後順序，應該如何排列？

甲：早上 8 點半

乙：下午 3 時 20 分

丙：下午 1 時 10 分

丁：上午 9 時 15 分

- ① 甲丙乙丁 ② 乙甲丙丁  
 ③ 丁甲丙乙 ④ 甲丁丙乙

2. ( ) 哪一個選項的題目可以用「 $3 \times 8$ 」來計算？

- ① 一枝鉛筆賣 8 元，小俊買了 3 枝，共要多少元？  
 ② 媽媽買了 3 盒泡芙，每盒有 8 個，媽媽一共買了幾個泡芙？  
 ③ 一盒布丁有 3 個，架上有 8 盒，共是幾個布丁？  
 ④ 小云有 3 套卡片，每套有 8 張，小云共有幾張卡片？


3. ( ) 如圖，哪一個最重？



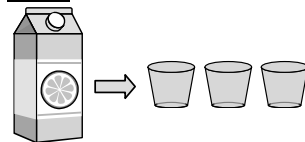
- ① 鳳梨 ② 葡萄 ③ 番茄  
 ④ 不能比較

4. ( ) 桌上有兩瓶一樣的水果汁。小娟和小紫分別喝了一些後，將剩下的果汁倒入相同的杯子裡。誰喝的水果汁比較多？

小娟喝了一些後剩下的果汁：



小紫喝了一些後剩下的果汁：



- ① 小娟 ② 小紫  
 ③ 一樣多 ④ 無法比較

二、連連看 (每題 2 分，共 8 分)

$7 \times 5$     $3 \times 7$     $9 \times 2$     $6 \times 8$

48   35   18   21

三、填填看 (每格3分, 共24分)

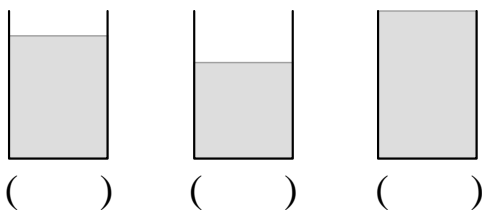
1. 現在是上午8:00, 再過3小時餐廳就開始營業, 餐廳開始營業的時間是上午( )時( )分。

2. 小智買了6串糖葫蘆, 一串糖葫蘆有3顆草莓, 全部共有幾顆草莓?  
 答案可以用哪些算式表示?  
 請填代號; ( )、( )。  
 (A)  $3 \times 6$   
 (B)  $6 \times 3$   
 (C)  $6 + 6 + 6$   
 (D)  $3 + 3 + 3 + 3 + 3 + 3$

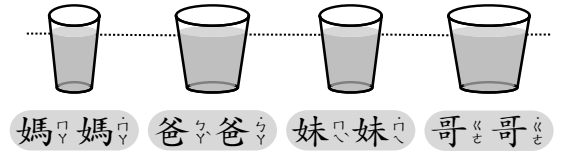
3. 教室裡每排有7個座位, 一共有6排, 教室裡共有幾個座位? 用乘法算式做做看。  
 ( )  $\times$  ( ) = ( ),  
 共有( )個座位。

四、看圖回答問題 (第1-3題每格3分, 第4題每格2分, 共34分)

1. 下面是相同的容器。按照水量由多到少填入1、2、3。



2. 週末全家一起吃早餐, 妹妹幫大家倒牛奶。



(1) 哥哥跟妹妹在討論哪一個杯子裡的牛奶比較多, 誰說的對? 在□裡打√。

妹妹: 大家的牛奶都一樣多, 因為每杯牛奶的高度都一樣。

哥哥: 才不是呢! 我們的杯子都不一樣, 不能這樣比較。

(2) 爸爸提議測量杯子的容量。他煮好一鍋紅茶, 並各舀一勺到大家的杯子里。

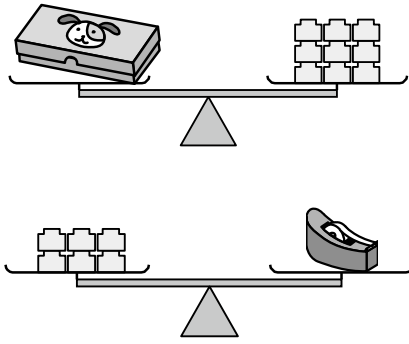
誰的杯子容量最大呢? 圈起來。

(媽媽, 爸爸, 妹妹, 哥哥)



翻到下一面, 還有題目喔!

3.

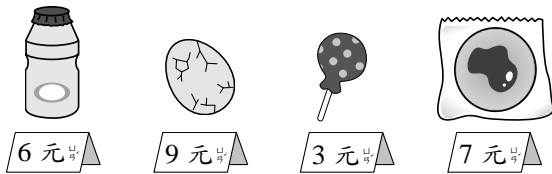


(1) 一個 跟 ( ) 個 一樣重。

(2) 一個 跟 ( ) 個 一樣重。

(3) 一個 和 一個 ，哪一個比較輕？  
( , )

4.



(1) 東東有 42 元，全都買 ，可以買 ( ) 瓶；全都買 ，可以買 ( ) 個。

(2) 光光買了 8 枝 ，忠忠買了 5 枝 ，光光比忠忠多買了 ( ) 枝，是多付 ( ) 元。

(3) 安安買了 5 顆 ，共要付 ( ) 元。

五、看圖填填看 (第一題每格 2 分，其餘每格 3 分，共 22 分)

1.



( ) 時 ( ) 分

2. 伊庭、仙仙和小羽相約

9 時到美術館，三個人到達美術館的時刻如圖，誰最先到？( )



伊庭



仙仙



小羽

3.



現在的鐘面是 ( ) 時 ( ) 分，分針再走 1 大格，表示經過 ( ) 分鐘，是 ( ) 時 ( ) 分。

作答完畢，請檢查三次！