

一、計算題：每題 4 分共 8 分

1. $85 + 47 = (\quad)$

2. $75 - 27 = (\quad)$

二、應用題，列出直式、橫式並寫答：

每題 5 分共 20 分

1. 一杯鮮奶茶 35 元，加珍珠要加 5 元。憶軒買了一杯鮮奶茶加珍珠要付多少元？

答：()

2. 小梅有 38 元，她想買一個 72 元的鉛筆盒，還差多少元？

答：()

3. 筆筒裡有 18 枝紅筆和 31 枝藍筆，紅筆和藍筆相差幾枝？

答：()

4. 一條繩子對摺後，長 12 公分，這條繩子原來的長度是多少公分？

答：()

三、填填看：每格 3 分共 15 分

- $(\quad) - 197 - 198 - (\quad) - (\quad)$
- 「一百零八」記作()。
- 110 讀作()。

四、在□裡填入 >、< 或 =：每題 3 分共

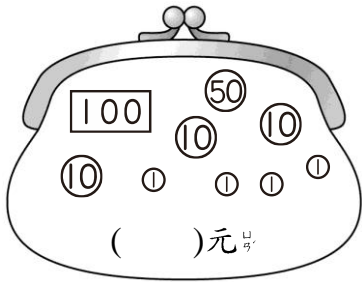
12 分

- 200 □ 199
- 168 □ 186
- 171 □ 177
- 10 個十和 10 個一 □ 1 個百和 1 個十

翻到背面，還有題目喔！

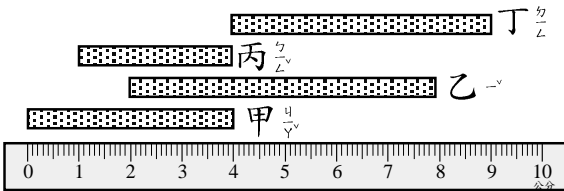
五、看圖回答問題：每格4分，共24分

1. 錢包裡有多少元？



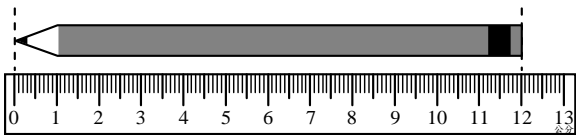
2. 最長和最短的繩子接在一起，共長幾公分？

()公分

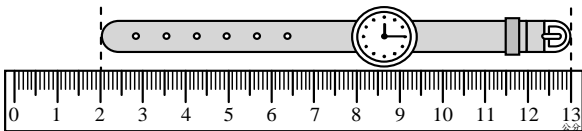


3. 下面哪些長度是正確的，對的在□中畫○，錯的打×。

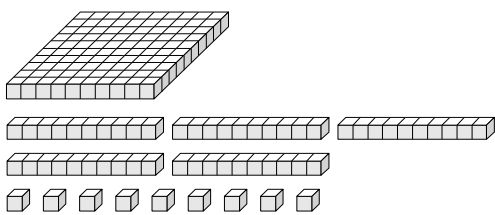
(1) 鉛筆長12公分



(2) 手錶長13公分



4. 一個 代表 1。



合起來和 () 個 一樣多。


5. 14個十和7個一合起來是多多少？在定位板上記一記看。

百位	十位	個位


六、勾選題：每題3分，共9分

誰的說法是對的？在□裡打√。


(1)



(2)

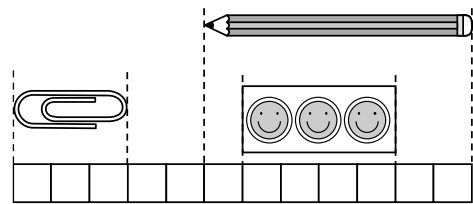


(3)



七、綜合題組：每題3分，共12分

數一數，並回答問題。



(1) 一枝鉛筆的長度跟 () 個 一樣長。

一樣長。

(2) 一張貼紙的長度跟 () 個 一樣長。

一樣長。

(3) () 個迴紋針的長度跟一枝鉛筆一樣長。

(4) 2張貼紙與1個迴紋針合起來的長度比一枝鉛筆的長度 (多, 少) () 個積木。

作答完畢，請檢查三次！